

Государственное автономное профессиональное  
образовательное учреждение  
«Мамадышский политехнический колледж»»

УТВЕРЖДАЮ

Зам. директора по ТО

В.В.Файзреева

«21» августа 2023 г.

ФОНД ОЦЕНОЧНЫХ СРЕДСТВ

для проведения текущего контроля и промежуточной аттестации

по учебной дисциплине

ОП.02 Техническая механика

по специальности

23.02.07 Техническое обслуживание и ремонт двигателей, систем и  
агрегатов автомобилей

Мамадыш

2023

Фонд оценочных средств разработан на основе рабочей программы учебной дисциплины ОП.02 Техническая механика сертификация и в соответствии с Федеральным государственным образовательным стандартом среднего профессионального образования по специальности 23.02.07 Техническое обслуживание и ремонт двигателей, систем и агрегатов автомобилей, приказ Министерство образования и науки России от 9 декабря 2016 г. № 1568 (Зарегистрировано в Минюсте РФ 26 декабря 2016 г. № 44946)

Обсуждена и одобрена на заседании Протокол № 1  
предметно-цикловой комиссии:

общепрофессиональных дисциплин « 29 » августа 20 23

Председатель ПК: В.В.Мирзаянова

  
(подпись, инициалы фамилия)

Разработала преподаватель:

 Р.Р.Кашапова

## 1. Пояснительная записка

ФОС по учебной дисциплине «Техническая механика» является неотъемлемой частью нормативно - методического обеспечения системы оценки качества освоения студентами образовательной программы среднего профессионального образования и обеспечивает повышение качества образовательного процесса колледжа.

ФОС по дисциплине представляет собой совокупность контролирующих материалов, предназначенных для измерения уровня достижения студентом установленных результатов обучения.

ФОС по дисциплине используется при проведении текущего контроля успеваемости и промежуточной аттестации студентов.

Оценка качества подготовки обучающихся и выпускников осуществляется в двух основных направлениях: оценка уровня освоения учебных дисциплин; оценка компетенций обучающихся. Для юношей предусматривается оценка результатов освоения основ военной службы.

Оценка качества освоения ОПОП включает текущий контроль знаний, промежуточную и государственную (итоговую) аттестацию обучающихся.

Целью создания ФОС является установление соответствия уровня подготовки обучающихся требованиям ФГОС по соответствующей профессии, специальности.

Задачи ФОС:

- контроль и управление процессом приобретения необходимых знаний, умений, практического опыта и уровня сформированности компетенций, определённых в ФГОС по соответствующей профессии, специальности;
- оценка достижений обучающихся в процессе изучения учебной дисциплины, профессионального модуля с целью планирования предупреждающих/корректирующих мероприятий;
- обеспечение соответствия результатов обучения задачам будущей профессиональной деятельности через совершенствование традиционных и внедрения инновационных методов в образовательный процесс.

## 2. Результаты освоения учебной дисциплины «Техническая механика», подлежащие проверке

Результаты обучения (освоенные умения, усвоенные знания)	Основные показатели результатов	оценки
У1 читать кинематические схемы;	Овладение умениями	читать кинематические схемы;
У2 проводить расчет и проектировать детали и сборочные единицы общего назначения;	Овладение умениями проводить расчет и проектировать детали и сборочные единицы общего назначения;	
У3 проводить сборочно-разборочные работы в соответствии с характером соединений деталей и сборочных единиц;	Овладение умениями проводить сборочно-разборочные работы в соответствии с характером соединений деталей и сборочных единиц;	

У4 определять напряжения в конструкционных элементах;	Овладение умениями определять напряжения в конструкционных элементах;
У5 производить расчеты элементов конструкций на прочность, жесткость и устойчивость; определять напряжения в конструкционных элементах;	Овладение умениями производить расчеты элементов конструкций на прочность, жесткость и устойчивость;
У6 определять передаточное отношение;	Овладение умениями определять передаточное отношение;
31 виды машин и механизмов, принцип действия, кинематические и динамические характеристики;	Овладение знаниями о видах машин и механизмов, принципе действия, кинематических и динамических характеристиках;
32 типы кинематических пар;	Овладение знаниями о типах кинематических пар;
33 типы соединений деталей и машин;	Овладение знаниями о типах соединений деталей и машин;
34 основные сборочные единицы и детали;	Овладение знаниями об основных сборочных единицах и деталях;
35 характер соединения деталей и сборочных единиц;	Овладение знаниями по характеру соединения деталей и сборочных единиц;
36 виды движений и преобразующие движения механизмы;	Овладение знаниями по видам движений и преобразующим движениям
37 виды передач, их устройство, назначение, преимущества и недостатки, условные обозначения на схемах;	Овладение знаниями по видам передач, их устройстве, назначении, преимуществах и недостатках, условных обозначений на схемах;
38 передаточное отношение и число	Овладение знаниями о передаточном отношении и числе
39 методику расчета элементов конструкций на прочность, жесткость и устойчивость при различных видах деформации	Овладение знаниями о методике расчета элементов конструкций на прочность, жесткость и устойчивость при различных видах деформации

Формируемые компетенции	
<b>ОК</b>	
ОК 1. Понимать сущность и социальную значимость своей будущей профессии, проявлять к ней устойчивый интерес.	Проявляет интерес к изучаемой дисциплине.
ОК 2. Организовывать собственную деятельность, выбирать типовые методы и способы выполнения профессиональных задач, оценивать их эффективность и качество.	Организует рабочее место в соответствии с требованиями. Организовывает собственную деятельность для выполнения практического задания. Самостоятельно выбирает методы и способы выполнения практического задания.
ОК 3. Принимать решения в стандартных и нестандартных ситуациях и нести за них ответственность.	Принимает решения в стандартных и нестандартных ситуациях при выполнении практического задания. Несет ответственность за принятые решения.
ОК 4. Осуществлять поиск и использование информации, необходимой для эффективного выполнения профессиональных задач, профессионального и личностного развития.	Использует браузеры Интернета для поиска информации. Работает в библиотеке для поиска информации Использует справочно-правовые системы для поиска информации. Самостоятельно осуществляет поиск информации для выполнения практического задания.
ОК 5. Владеть информационной культурой, анализировать и оценивать информацию с использованием информационно-коммуникационных технологий.	Оперативно и правильно составляет необходимую документацию с использованием ИКТ.
ОК 6. Работать в коллективе и команде, эффективно общаться с коллегами, руководством, потребителями.	Оказывает помощь другим обучающимся. Бесконфликтно и эффективно организует свою работу в команде для выполнения задания. Владение навыками делового общения, устной и письменной речи.
ОК 7. Брать на себя ответственность за работу членов команды (подчиненных), результат выполнения заданий.	Берет на себя ответственность за выполнение заданий.

ОК 8. Самостоятельно определять задачи профессионального и личностного развития, заниматься самообразованием, осознанно планировать повышение квалификации.	Указывает причины своих успехов и неудач в деятельности. Называет трудности, с которыми столкнулся при решении практической задачи и предлагает пути их преодоления/избегания в дальнейшей деятельности.
ОК 9. Ориентироваться в условиях частой смены технологий в профессиональной деятельности.	Проявляет интерес к инновациям в области профессиональной деятельности. Знает современные программы для выполнения задач в области профессиональной деятельности.

### 3. Распределение оценивания результатов обучения по видам контроля (для учебной дисциплины «Техническая механика»)

Наименование элемента умений или знаний	Виды аттестации	
	Текущий контроль	Промежуточная аттестация
У1 читать кинематические схемы;	Практическое занятие, Домашнее задание	Экзамен
У2 проводить расчет и проектировать детали и сборочные единицы общего назначения;	Практическое занятие, Контрольная работа	Экзамен
У3 проводить сборочно-разборочные работы в соответствии с характером соединений деталей и сборочных единиц;	Практическое занятие Контрольная работа	Экзамен
У4 определять напряжения в конструкционных элементах;	Практическое занятие Домашнее задание Контрольная работа	Экзамен
У5 производить расчеты элементов конструкций на прочность, жесткость и устойчивость; определять напряжения в конструкционных элементах;	Практическое занятие Домашнее задание Контрольная работа	Экзамен
У6 определять передаточное отношение;	Практическое	Экзамен

	занятие Домашнее задание Контрольная работа	
31 виды машин и механизмов, принцип действия, кинематические и динамические характеристики;	Домашнее задание, Тестирование	Экзамен
32 типы кинематических пар;	Домашнее задание, Контрольная работа	Экзамен
33 типы соединений деталей и машин;	Домашнее задание, Контрольная работа	Экзамен
34 основные сборочные единицы и детали;	Домашнее задание, Контрольная работа	Экзамен
35 характер соединения деталей и сборочных единиц;	Домашнее задание, Контрольная работа	Экзамен
36 виды движений и преобразующие движения механизмы;	Домашнее задание, Контрольная работа	Экзамен
37 виды передач, их устройство, назначение, преимущества и недостатки, условные обозначения на схемах;	Домашнее задание, Контрольная работа	Экзамен
38 передаточное отношение и число	Домашнее задание, Контрольная работа	Экзамен
39 методику расчета элементов конструкций на прочность, жесткость и устойчивость при различных видах деформации	Домашнее задание, Контрольная работа	Экзамен

#### 4. Распределение типов контрольных заданий по элементам знаний и умений текущего контроля

Содержание учебного материала по программе УД	У1	У2	У3	У4	У5	У6	31	32	33	34	35	36	37	38	39
Раздел 1. Машины и механизмы.															
Тема 1.1 Виды машин и механизмов.	5,7	5, 20	5, 20				7, 18	7, 20	7, 20		7, 20	7, 20	7, 20		
Тема 1.2 Сборочные единицы и детали.		5, 20	5, 20	5, 7, 20	5, 7, 20					7, 20	7, 20	7, 20			7, 20
Раздел 2. Виды передач.															
Тема 2.1 Современные передачи.					5, 7, 20	5, 7, 20						7, 20	7, 20	7, 20	7, 20

#### 5. Распределение типов и количества контрольных заданий по элементам знаний и умений, контролируемых на промежуточной аттестации.

Содержание учебного материала по программе УД	У1	У2	У3	У4	У5	У6	31	32	33	34	35	36	37	38	39
Раздел 1. Машины и механизмы.															
Тема 1.1 Виды машин и механизмов.	22	22	22				22	22	22		22	22	22		
Тема 1.2 Сборочные единицы и детали.		22	22	22	22					22	22	22			22
Раздел 2. Виды передач.															
Тема 2.1 Современные передачи.					22	22						22	22	22	22



## **6. Фонд оценочных средств для проведения текущего контроля успеваемости**

При реализации программы учебной дисциплины, преподаватель обеспечивает организацию и проведение текущего и итогового контроля индивидуальных образовательных достижений обучающихся – демонстрируемых обучающимися знаний, умений.

Текущий контроль проводится преподавателем в процессе проведения теоретических занятий – устный опрос, практических работ, тестирования, контрольных работ.

Обучение учебной дисциплине завершается итоговым контролем в форме экзамена.

Формы и методы текущего и итогового контроля по учебной дисциплине доводятся до сведения обучающихся не позднее двух месяцев от начала обучения по основной профессиональной образовательной программе.

Для текущего и итогового контроля преподавателем созданы фонды оценочных средств (ФОС). ФОС включают в себя педагогические контрольно-измерительные материалы, предназначенные для определения соответствия (или несоответствия) индивидуальных образовательных достижений основным показателям результатов подготовки: контрольных работ (тесты), перечень тем мультимедийных презентаций и критерии их оценки; вопросы для проведения экзамена по дисциплине.

### **Контрольные вопросы для проведения устных и письменных вопросов:**

1. Дайте определение абсолютно твердого тела и материальной точки.
2. Что такое сила? Охарактеризуйте эту физическую величину и единицу ее измерения в системе СИ.
3. Перечислите и охарактеризуйте основные аксиомы статики.
4. Что такое "эквивалентная", "равнодействующая" и "уравновешивающая" система сил?
5. Теорема о равновесии плоской системы трех непараллельных сил и ее доказательство.
6. В чем разница между активными силами (нагрузками) и реактивными силами (реакциями)? Перечислите и охарактеризуйте наиболее распространенные виды связей между несвободными телами.
7. В чем разница между распределенной и сосредоточенной нагрузкой? Что такое "интенсивность" плоской системы распределенных сил и в каких единицах она измеряется?
8. Сформулируйте принцип отвердевания и поясните его сущность.
9. Что такое "плоская система сходящихся сил"? Определение равнодействующей плоской системы сил геометрическим и графическим методом.
10. Сформулируйте условия равновесия плоской системы произвольно расположенных сил.
11. Сформулируйте и докажите теорему о равнодействующей двух неравных антипараллельных сил.
12. Что такое момент силы относительно точки и в каких единицах (в системе СИ) он измеряется? Что такое момент пары сил и какие пары сил считаются эквивалентными?

13. Сформулируйте основные свойства пары сил в виде теорем.
14. Сформулируйте и докажите теорему о сложении пар сил. Сформулируйте условие равновесия плоской системы пар.
15. Сформулируйте и докажите лемму о параллельном переносе силы.
16. Сформулируйте и докажите теорему о приведении системы произвольно расположенных сил к данному центру. Что такое главным момент плоской системы произвольно расположенных сил?
17. Перечислите свойства главного вектора и главного момента системы произвольно расположенных сил.
18. Сформулируйте теорему о моменте равнодействующей системы сил (теорема Вариньона).
19. Сформулируйте три основных закона трения скольжения (законы Кулона).
20. Что такое коэффициент трения скольжения? От чего зависит его величина?
21. Сформулируйте условия равновесия пространственной системы произвольно расположенных сил.
22. Дайте определение центра тяжести тела и опишите основные методы его нахождения.
23. Дайте определение абсолютному и относительному движению. Что такое траектория точки?
24. Перечислите и охарактеризуйте способы задания движения точки.
25. Что такое скорость точки? Какими единицами (в системе СИ) она измеряется и какими параметрами характеризуется? Что такое средняя и истинная скорость точки?
26. Что такое ускорение точки? Какими единицами (в системе СИ) оно измеряется и какими параметрами характеризуется? Что такое среднее и истинное ускорение точки?
27. Дайте определение нормального и касательного ускорения. Сформулируйте теорему о нормальном и касательном ускорении.
28. Перечислите и охарактеризуйте виды движения точки в зависимости от величины ее касательного и нормального ускорения.
29. Дайте определение и поясните сущность поступательного, вращательного, плоскопараллельного и сложного движения твердого тела.
30. Перечислите основные законы динамики и поясните их смысл.
31. Сформулируйте принцип независимости действия сил и поясните его смысл. Назовите две основные задачи динамики.
32. Сформулируйте и поясните сущность метода кинетостатики для решения задач динамики (принцип Д'Аламбера).
33. Что такое работа силы? Какими единицами (в системе СИ) она измеряется?
34. Сформулируйте теорему о работе силы тяжести и поясните ее сущность.
35. Что такое мощность силы? Какими единицами (в системе СИ) она измеряется?
36. Что такое энергия? Дайте определение и поясните сущность коэффициента полезного действия.
37. Сформулируйте теорему об изменении количества движения и поясните ее смысл.
38. Сформулируйте теорему об изменении кинетической энергии и поясните ее смысл.
39. Сформулируйте закон сохранения механической энергии и поясните его смысл.

40. Перечислите основные задачи науки о сопротивлении материалов. Что такое прочность, жесткость, устойчивость?
41. Перечислите основные гипотезы и допущения, принимаемых в расчетах сопротивления материалов и поясните суть. Сформулируйте принцип Сен-Венана.
42. Перечислите основные виды нагрузок и деформаций, возникающих в процессе работы машин и сооружений.
43. В чем заключается метод сечений, используемый при решении задач теоретической механики и сопротивления материалов?
44. Какие силовые факторы могут возникать в поперечном сечении бруса и какие виды деформаций они вызывают? Что такое эпюра?
45. Что такое напряжение и в каких единицах оно измеряется? В чем принципиальное отличие напряжения от давления?
46. Сформулируйте гипотезу о независимости действия сил (принцип независимости действия сил) и поясните ее сущность.
47. Сформулируйте закон Гука при растяжении и сжатии и поясните его смысл. Что такое модуль продольной упругости?
48. Опишите зависимость между продольной и поперечной деформациями при растяжении и сжатии. Что такое коэффициент Пуассона?
49. Сформулируйте условие прочности материалов и конструкций при растяжении и сжатии, представьте его в виде расчетной формулы. Что такое коэффициент запаса прочности?
50. Сформулируйте условие прочности материалов и конструкций при сдвиге, представьте его в виде расчетной формулы. Что такое срез (скалывание)?
51. Сформулируйте закон Гука при сдвиге и поясните его сущность. Что такое модуль упругости сдвига (модуль упругости второго рода)?
52. Что такое статический момент площади плоской фигуры? Какими единицами системы СИ он измеряется?
53. Что такое полярный момент инерции плоской фигуры? Какими единицами системы СИ он измеряется?
54. Что такое осевой момент инерции плоской фигуры? Какими единицами системы СИ он измеряется? Что такое центральный момент инерции?
55. Какие деформации и напряжения в сечениях бруса возникают при кручении? Что такое полный угол закручивания и относительный угол закручивания сечения?
56. Сформулируйте условие прочности бруса при кручении. Приведите расчетную формулу на прочность при кручении и поясните ее сущность.
57. Какие напряжения возникают в поперечных сечениях витков цилиндрической винтовой пружины при сжатии и растягивании? В какой точке сечения витка пружины напряжения достигают максимальной величины?
58. Что такое чистый изгиб, прямой изгиб, косой изгиб? Какие напряжения возникают в поперечном сечении бруса при чистом изгибе?
59. Сформулируйте условие прочности балки (бруса) при изгибе. Приведите расчетную формулу и поясните ее сущность.
60. Что такое продольный изгиб? Приведите формулу Эйлера для определения величины критической силы при продольном изгибе и поясните ее сущность.

61. Что такое критерий работоспособности детали? Назовите основные критерии работоспособности и расчета деталей машин.
62. Перечислите наиболее распространенные в машиностроении типы разъемных и неразъемных соединений деталей.
63. Достоинства и недостатки клепаных соединений. Перечислите основные типы заклепок по форме головок. Как производится расчет на прочность клепаных соединений?
64. Достоинства и недостатки сварочных соединений. Виды сварки. Как производится расчет на прочность сварочных соединений?
65. Классификация и основные типы резьб. Как производится расчет на прочность резьбовых соединений?
66. Что такое механическая передача? Классификация механических передач по принципу действия.
67. Основные кинематические и силовые соотношения в механических передачах. Что такое механический КПД передачи, окружная скорость, окружная сила, вращающий момент, передаточное число?
68. Классификация зубчатых передач. Достоинства и недостатки зубчатых передач.
69. Основные элементы и характеристики зубчатого колеса (шестерни). Что такое делительная окружность и модуль зубьев?
70. Перечислите способы изготовления зубьев зубчатых колес. Что такое модуль зубьев?
71. Характер и причины отказов зубчатых передач. Перечислите способы повышения работоспособности зубчатых передач.
72. Классификация ременных передач. Достоинства и недостатки ременных передач и область их применения.
73. Классификация цепных передач. Достоинства и недостатки цепных передач и область их применения.
74. В чем отличие вала от оси? Классификация валов и осей по назначению и по геометрической форме.
75. Классификация и условные обозначения подшипников качения. Основные типы подшипников качения. Характер и причины отказов подшипников качения.
76. Классификация муфт. Перечислите наиболее часто применяемые в машиностроении виды муфт, их достоинства и недостатки.

#### **Критерии оценки:**

**Оценка «отлично»** - вопрос раскрыт полностью, точно обозначены основные понятия и характеристики в соответствии с теоретическим материалом.

**Оценка «хорошо»** - вопрос раскрыт, однако нет полного описания всех необходимых элементов.

**Оценка «удовлетворительно»** - вопрос раскрыт не полно, присутствуют грубые ошибки, однако есть некоторое понимание раскрываемых понятий.

**Оценка «неудовлетворительно»** - ответ на вопрос отсутствует или в целом не верен.

## Тестовые задания

Тесты (контрольно-оценочные средства) обеспечивают возможность объективной оценки знаний и умений, обучающихся в баллах по единым для всех критериям.

При разработке тестов используются задания закрытого типа: после текста вопроса предлагается перечень закрытий, т.е. возможные варианты ответа, а так же открытые.

При разработке дисциплинарных и других тестов используются задания: -- на классификацию предметов, явлений по указанному признаку («Укажите..., относящуюся к ...», «На какие группы подразделяют ...», «Что относится к ...»);

- на установление значения того или иного явления, процесса (Какое влияние оказывает...);

- на объяснение, обоснование («Чем объяснить ...», «Увеличение ... при сокращении ... объясняется...»);

- на определение цели действия процесса («Какую цель преследует...», «Каково назначение ...», «Для чего выполняется ...») и т.п.;

Общее количество вопросов в каждом варианте контрольно-оценочных средств – 30 (итогового теста по «Технической механике»). Время на прохождение итогового теста ограничивается 90 минутами. Время установлено с учётом 2 минуты на обдумывание и решение каждого закрытого вопроса (2 минуты x 23 вопроса = 46 минут), 4 минуты на открытые вопросы (4 минуты x 7 вопросов = 28 минут), плюс 16 минут на организационные вопросы (инструктаж) и общее знакомство с работой (итоговым тестом).

При ответе на вопрос может быть несколько правильных вариантов ответов или только один.

Инструкция по выполнению итогового теста:

1. Проверка готовности учащихся к занятиям.
2. Запрещается пользоваться какими-либо техническими средствами (телефоном с интернетом и т.п.).
3. Каждому присутствующему учащемуся раздаётся вариант итогового теста и двойной тетрадный лист со штампом учебного заведения в верхнем левом углу.
4. На первой странице двойного тетрадного листка внизу под штампом пишется: итоговое тестирование по дисциплине «Техническая механика», номер группы и курс, фамилия и имя в родительном падеже, номер варианта, внизу страницы дата проведения тестирования.
5. На второй странице в столбик от 1 до 30 пишутся номера вопросов.
6. Варианты ответов отделяются от номеров вопросов тире.

7. После данного варианта ответа в виде цифры больше ничего не пишется (расшифровка ответа), там, где требуется слово в ответе написать, пишется только слово-ответ.



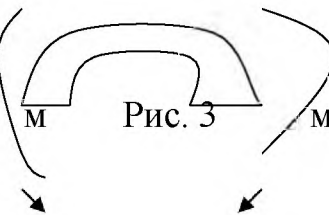
8. Что исправить уже данный вариант ответа его необходимо аккуратно одной косой линией зачеркнуть и рядом разборчиво написать новый вариант ответа (в противном случае все исправления будут оцениваться как ошибочные).

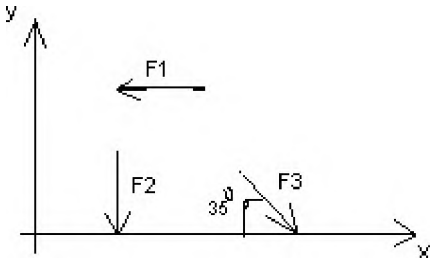
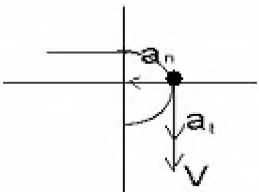
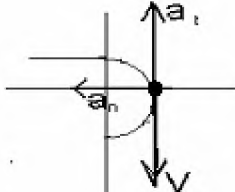
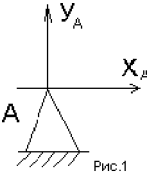
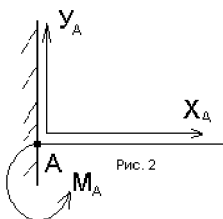
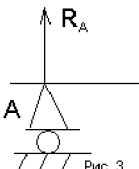
9. После проверки тестовых ответов до студентов доводятся оценки.

### Тестовые задания

#### Вариант- 1

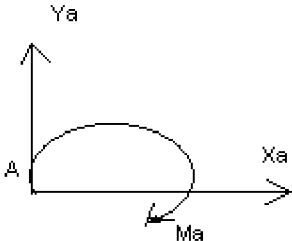
#### Блок А

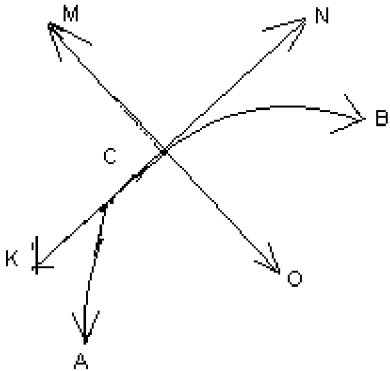
№ п/п	Задание (вопрос)			
<b>Инструкция по выполнению заданий № 1-4: соотнесите содержание столбца 1 с содержанием столбца 2. Запишите в соответствующие строки бланка ответов букву из столбца 2, обозначающую правильный ответ на вопросы столбца 1. В результате выполнения Вы получите последовательность букв. Например,</b>				
		№ задания	Вариант ответа	
		1	1-А, 2- Б, 3-В.	
1.	Установить соответствие между рисунками и определениями	<div><div><p>Рис. 1.</p></div><div><p>Рис. 2.</p><p><math> F1  =  F2 </math></p></div><div><p>Рис. 3</p></div></div> <div><div>Рисунок.</div><div>1.Рис. 1</div><div>2.Рис. 2</div><div>3.Рис. 3</div><div>Растяжение</div></div> <div><div>Определение</div><div>А. Изгиб</div><div>Б. Сжатие</div><div>В.</div><div>Г. Кручение</div></div>		1 – В 2 – Б 3 – А
2.	Установить соответствие между рисунками и выражениями для расчета проекции силы на ось ОХ	<div><div>Силы сил</div><div>1. F1</div><div>2. F2</div></div> <div><div>Проекции</div><div>А. 0</div><div>Б. -F</div></div>		1 – Б 2 – А

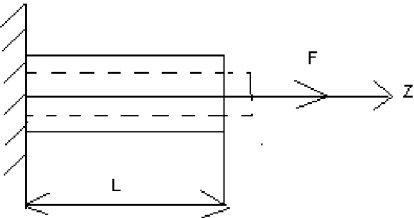
		3. $F_3$ $35^\circ$	В. $-F \sin$  Г. $-F \cos 35^\circ$	3 – Г
3.	<p>Установить соответствие между рисунками и видами движения точки.</p> <div style="display: flex; justify-content: space-around; align-items: flex-end;"> <div style="text-align: center;">  <p>Рис. 1</p> </div> <div style="text-align: center;">  <p>Рис. 2</p> </div> </div>	<p>Рис.</p> <p>1. Рис. 1</p> <p>2. Рис. 2</p> <p>3. Рис. 3</p> <p><u>Виды движения</u></p> <p>А. Равномерное</p> <p>Б. Равноускоренное</p> <p>В. Равнозамедленное</p>	1 – Б 2 – В	
4.	<p>Установите соответствие между рисунком и определением:</p> <div style="display: flex; justify-content: space-around; align-items: flex-end;"> <div style="text-align: center;">  <p>Рис. 1</p> </div> <div style="text-align: center;">  <p>Рис. 2</p> </div> <div style="text-align: center;">  <p>Рис. 3</p> </div> </div>	<p><u>Рис.</u>      <u>Определение</u></p> <p>1. Рис. 1    А. Жесткая заделка</p> <p>2. Рис. 2    Б. неподвижная опора</p> <p>3. Рис. 3    В. Подвижная опора</p> <p>              Г. Вид опоры не определен</p>	1 – Б 2 – А 3 – В	
<p><b>Инструкция по выполнению заданий № 5 -23: выберите цифру, соответствующую правильному варианту ответа и запишите ее в бланк ответов.</b></p>				
5.	<p>Укажите, какое движение является простейшим.</p>	<p>1. Молекулярное</p> <p>2. Механическое</p> <p>3. Движение электронов</p> <p>4. Отсутствие движения</p>		2.

6.	Укажите, какое действие производят силы на реальные тела.	<p>1. Силы, изменяющие форму и размеры реального тела</p> <p>2. Силы, изменяющие движение реального тела</p> <p>3. Силы, изменяющие характер движения и деформирующие реальные тела</p> <p>4. Действие не наблюдаются</p>	3.
7.	Укажите, признаки уравнивающей силы?	<p>1. Сила, производящая такое же действие как данная система сил</p> <p>2. Сила, равная по величине равнодействующей и направленная в противоположную сторону</p> <p>3. Признаков действий нет</p>	2.
8.	Укажите, к чему приложена реакция опоры	<p>1. К самой опоре</p> <p>2. К опирающему телу</p> <p>3. Реакция отсутствует</p>	2.
9.	Укажите, какую систему образуют две силы, линии, действия которых перекрещиваются.	<p>1. Плоскую систему сил</p> <p>2. Пространственную систему сил</p> <p>3. Сходящуюся систему сил</p> <p>4. Система отсутствует</p>	3.



10.	Укажите, чем можно уравновесить пару сил?	1. Одной силой 2. Парой сил 3. Одной силой и одной парой	2.
11.	Укажите, что надо знать чтобы определить эффект действия пары сил?	1. Величину силы и плечо пары 2. Произведение величины силы на плечо 3. Величину момента пары и направление 4. Плечо пары	3.
12.	Укажите опору, которой соответствует составляющие реакций опоры балки 	1. Шарнирно-неподвижная 2. Шарнирно-подвижная 3. Жесткая заделка	3.
13.	Нормальная работа зубчатого механизма была нарушена из-за возникновения слишком больших упругих перемещений валов. Почему нарушилась нормальная работа передачи	1. Из-за недостаточной прочности 2. Из-за недостаточной жесткости валов 3. Из-за недостаточной устойчивости валов	1.
14.	Укажите вид изгиба, если в поперечном сечении балки возникли изгибающий момент и поперечная сила	1. Чистый изгиб 2. Поперечный изгиб	2.
15.	Точка движется из А в В по траектории, указанной на рисунке. Укажите направление скорости точки?	1. Скорость направлена по СК 2. Скорость	3.

		<p>направлена по CM</p> <p>3. Скорость направлена по CN</p> <p>4. Скорость направлена по CO</p>	
16.	Укажите, в каком случае материал считается однородным?	<p>1. Свойства материалов не зависят от размеров</p> <p>2. Материал заполняет весь объем</p> <p>3. Физико-механические свойства материала одинаковы во всех направлениях.</p> <p>4. Температура материала одинакова во всем объеме</p>	3.
17.	Укажите, как называют способность конструкции сопротивляться упругим деформациям?	<p>1. Прочность</p> <p>2. Жесткость</p> <p>3. Устойчивость</p> <p>4. Выносливость</p>	3.
18.	Укажите, какую деформацию получил брус, если после снятия нагрузки форма бруса восстановилась до исходного состояния?	<p>1. Незначительную</p> <p>2. Пластическую</p> <p>3. Остаточную</p>	4.

		4. Упругую	
19.	Укажите точную запись условия прочности при растяжении и сжатии?	1. $\sigma = N/A = [\sigma]$ 2. $\sigma = N/A \leq [\sigma]$ 3. $\sigma = N/A \geq [\sigma]$ 4. $\sigma = N/A > [\sigma]$	2.
20.	Укажите, какие механические напряжения в поперечном сечении бруса при нагружении называют «нормальными»	1. Возникающие при нормальной работе 2. Направленные перпендикулярно площадке 3. Направленные параллельно площадке 4. Лежащие в площади сечения	2.
21.	Укажите, что можно сказать о плоской системе сил, если при приведении ее к некоторому центру главный вектор и главный вектор и главный момент оказались равными нулю?	1. Система не уравновешена 2. Система заменена равнодействующей 3. Система заменена главным вектором 4. Система уравновешена	4.
22.	Укажите, как называется и обозначается напряжение, при котором деформации растут при постоянной нагрузке?	1. Предел прочности, $\sigma_B$ 2. Предел текучести, $\sigma_T$ 3. Допускаемое	2.

		напряжение, $[\sigma]$ 4. Предел пропорциональности, $\sigma_{пц}$	
23.	Указать по какому из уравнений, пользуясь методом сечений, можно определить продольную силу в сечении?	1. $Q_x = \sum F_{kx}$ 2. $Q_y = \sum F_{ky}$ 3. $N = \sum F_{kz}$ 4. $M_k = \sum M_z(F_k)$	3.



### Блок Б

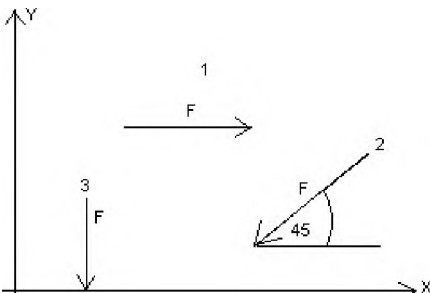
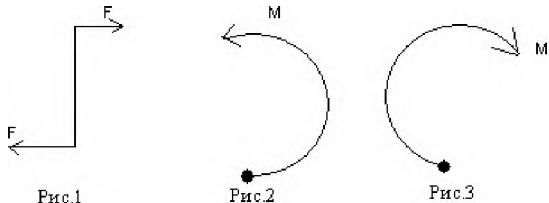
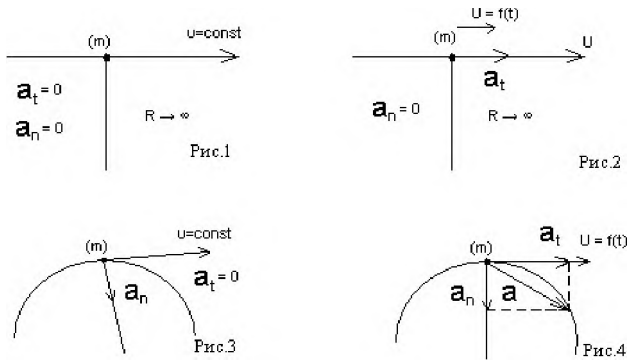
№ п/п	Задание (вопрос)	
<b>Инструкция по выполнению заданий № 24-30: В соответствующую строку бланка ответов запишите ответ на вопрос, окончание предложения или пропущенные слова.</b>		
24.	Допишите предложение:  Плечо пары – кратчайшее ..., взятое по перпендикуляру к линиям действия сил.	1. Расстояния
25.	Допишите предложение:  Условие равновесия системы пар моментов состоит в том, что алгебраическая сумма моментов пар равняется ... .	1. Нулю
26.	Допишите предложение:  Напряжение характеризует ... и направление внутренних сил, приходящихся на единицу площади в данной точке сечения тела.	1. Величину
27.	Допишите предложение:  Растяжение или сжатие – это такой вид деформации стержня, при котором в его поперечных сечениях возникает один внутренний силовой фактор- ... сила.	1. Продольная

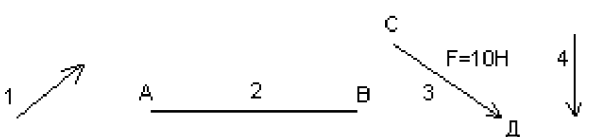
28.	Допишите предложение: При вращательном движении твердого тела вокруг неподвижной оси траектория всех точек, не лежащих на оси вращения, представляют собой ... .	1. Окружность
29.	Допишите предложение: Работа пары сил равна произведению ... на угол поворота, выраженный в радианах.	1. Момент
30.	Допишите предложение: Мощность при вращательном движении тела равна произведению вращающего момента на ....	1. Угловую скорость

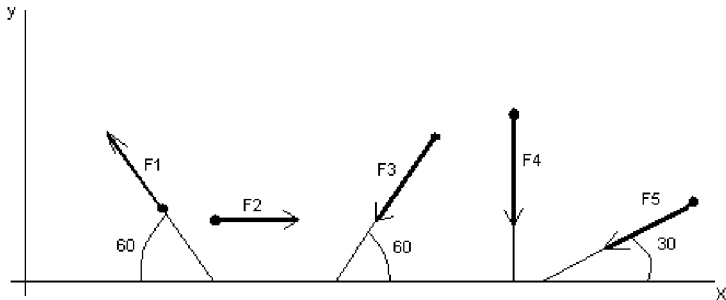
## Вариант- 2

### Блок А

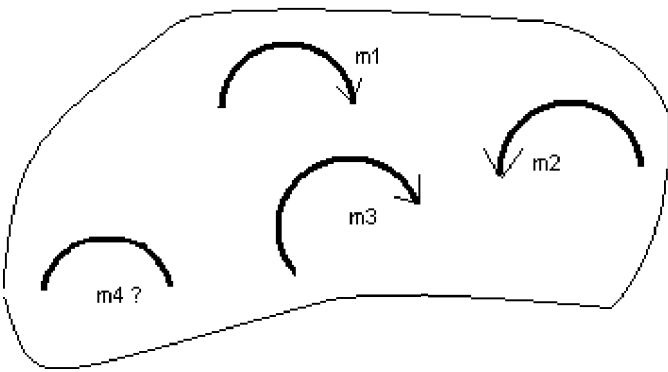
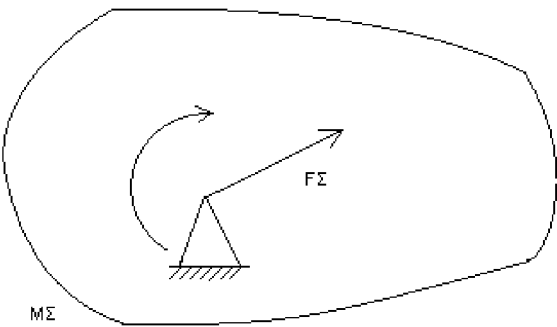
№ п/п	Задание (вопрос)						
<b>Инструкция по выполнению заданий № 1-4: соотнесите содержание столбца 1 с содержанием столбца 2. Запишите в соответствующие строки бланка ответов букву из столбца 2, обозначающую правильный ответ на вопросы столбца 1. В результате выполнения Вы получите последовательность букв. Например,</b>							
		<table><tr><th>№ задания</th><th>Вариант ответа</th></tr><tr><td>1</td><td>1-А, 2- Б, 3-В.</td></tr></table>	№ задания	Вариант ответа	1	1-А, 2- Б, 3-В.	
№ задания	Вариант ответа						
1	1-А, 2- Б, 3-В.						
1.	<div>Установите соответствие между рисунками и определениями:</div> <div><div><p>рис. 1</p></div><div><p>рис. 2</p></div></div> <div><math> F1  =  F2 </math></div>	<div><u>Рисунки</u>   <u>Определения</u></div> <div>1. Рис.1    А. Изгиб</div> <div>2. Рис.2    Б. Сжатие</div> <div>              В. Растяжение</div>	<div>1 – В</div> <div>2 – Б</div>				
2.	<div>Установите соответствие между рисунками и выражениями для расчета проекции силы на ось ОУ</div>	<div><u>Силы</u>        <u>Проекции</u></div> <div>1. <math>F_1</math>        А. 0</div> <div>2. <math>F_2</math>        Б. <math>-F</math></div> <div>3. <math>F_3</math>        В. <math>-F \sin 45^\circ</math></div>	<div>1– А</div> <div>2– В</div> <div>3 –Б</div>				

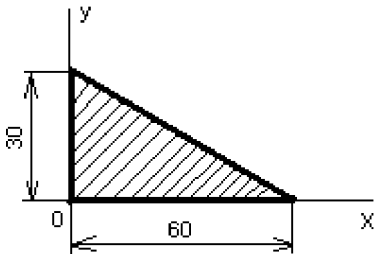
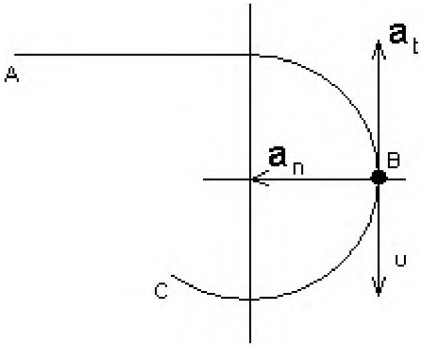
		Г. $F \cos 45^\circ$	
3.	<p>Установите соответствие между рисунками и направлениями моментов пар</p> 	<p><u>Рисунки</u></p> <p>1. Рис.1 2. Рис.2 3. Рис.3</p> <p><u>Направление</u></p> <p>А– Положительное направление Б – Отрицательное направление В – Нет вариантов</p>	<p>1– А 2– Б 3– А</p>
4.	<p>Установите соответствие между рисунками и определениями:</p> 	<p><u>Рисунки</u></p> <p>1. Рис.1 2. Рис.2 3. Рис.3 4. Рис.4</p> <p><u>Направление</u></p> <p>А– Неравномерное криволинейное движение Б – Равномерное движение В – Равномерное Криволинейное движение</p>	<p>1 – Б 2 – Г 3– В 4– А</p>

		Г – Неравномерное движение Д – Верный ответ не приведен	
<b>Инструкция по выполнению заданий № 5 -23: выберите цифру, соответствующую правильному варианту ответа и запишите ее в бланк ответов.</b>			
5.	Укажите, какую характеристику движения поездов можно определить на карте железнодорожных линий?	1. Траекторию движения 2. Расстояние между поездами 3. Путь, пройденный поездом 4. Характеристику движения нельзя определить	1
6.	Укажите, в каком случае не учитывают деформации тел.	1. При исследовании равновесия. 2. При расчете на прочность 3. При расчете на жесткость 4. При расчете выносливости	1
7.	Укажите, какое изображение вектора содержит все элементы, характеризующие силу:  	1. Рис 1 2. Рис 2 3. Рис 3 4. Рис 4	3
8.	Укажите, как взаимно расположена равнодействующая и уравновешенная силы?	1. Они направлены в одну сторону 2. Они направлены по одной прямой в противоположные стороны 3. Их взаимное	2

		<p>расположение может быть произвольным</p> <p>4. Они пересекаются в одной точке</p>	
9.	<p>Укажите, почему силы действия и противодействия не могут взаимно уравниваться?</p>	<p>1. Эти силы не равны по модулю</p> <p>2. Они не направлены по одной прямой</p> <p>3. Они не направлены в противоположные стороны</p> <p>4. Они принадлежат разным телам</p>	4
10.	<p>Выбрать выражение для расчета проекции силы <math>F_5</math> на ось <math>Ox</math></p> 	<p>1. <math>-F_5 \cos 30^\circ</math></p> <p>2. <math>F_5 \cos 60^\circ</math></p> <p>3. <math>-F_5 \cos 60^\circ</math></p> <p>4. <math>F_5 \sin 120^\circ</math></p>	1
11.	<p>Тело находится в равновесии</p> <p><math>m_1 = 15\text{Нм}</math>; <math>m_2 = 8\text{Нм}</math>; <math>m_3 = 12\text{Нм}</math>; <math>m_4 = ?</math></p> <p>Определить величину момента пары <math>m_4</math></p>	<p>1. <math>14\text{Нм}</math></p> <p>2. <math>19\text{Нм}</math></p> <p>3. <math>11\text{Нм}</math></p>	2



		4. 15Hm	
12.	<p>Произвольная плоская система сил приведена к главному вектору <math>F_\Sigma</math> и главному моменту <math>M_\Sigma</math>. Чему равна величина равнодействующей? <math>F_\Sigma = 105 \text{ кН}</math> <math>M_\Sigma = 125 \text{ кНм}</math></p> 	1. 25 кН 2. 105 кН 3. 125 кН 4. 230 кН	2
13.	Чем отличается главный вектор системы от равнодействующей той же системы сил?	1. Величиной 2. Направлением 3. Величиной и направлением 4. Точкой приложения	4
14.	Сколько неизвестных величин можно найти, используя уравнения равновесия пространственной системы сходящихся сил?	1. 6 2. 2 3. 3 4. 4	2
15.	что произойдет с координатами $X_c$ и $U_c$ , если увеличить величину основания треугольника до 90 мм?	1. $X_c$ и $U_c$ не изменятся 2. Изменится только	2

		<p><math>X_c</math></p> <p>3. Изменится только <math>U_c</math></p> <p>4. Изменится и <math>X_c</math>, и <math>U_c</math></p>	
16	<p>Точка движется по линии ABC и в момент <math>t</math> занимает положение B.</p> <p>Определите вид движения точки</p>  <p><math>a_t = \text{const}</math></p>	<p>1. Равномерное</p> <p>2. Равноускоренное</p> <p>3. Равнозамедленное</p> <p>4. Неравномерное</p>	3
17.	<p>По какому из уравнений, пользуясь методом сечений, можно определить продольную силу в сечении?</p>	<p>1. <math>Q_x = \sum F_{Kx}</math></p> <p>2. <math>Q_y = \sum F_{Ky}</math></p> <p>3. <math>N = \sum F_{Kz}</math></p> <p>4. <math>M_K = \sum M_z(F_K)</math></p>	3
18.	<p>Укажите, какой знак имеет площадь отверстий в</p>	<p>1. Знак минус</p>	

	формуле для определения центра тяжести	2. Знак плюс 3. Ни тот не другой	1
19.	Укажите, какая деформация возникла в теле если после снятия нагрузки размеры и форма тела полностью восстановились?	1. Упругая деформация 2. Пластическая деформация 3. Деформация не возникала	1
20.	Укажите, почему произошло искривление спицы под действием сжимающей силы?	1. Из-за недостаточной прочности 2. Из-за недостаточной жесткости 3. Из-за недостаточной устойчивости. 4. Из-за недостаточной выносливости	3
21.	Укажите, как изменится вращающий момент $M$ , если при одной и той же мощности уменьшит угловую скорость вращения вала.	1. Вращающий момент уменьшится 2. Вращающий момент увеличится 3. Вращающий момент равен нулю 4. Нет разницы	2
22.	Укажите, какая составляющая ускорения любой точки твердого тела равна нулю при равномерном вращении твердого тела вокруг неподвижной оси.	1. Нормальное ускорение 2. Касательное ускорение 3. Полное ускорение 4. Ускорение равно нулю	2
23.	Как называется способность конструкции	1. Прочность	2

	сопротивляться упругим деформациям?	2. Жесткость 3. Устойчивость 4. Износостойкость	
--	-------------------------------------	---	--

### Блок Б

№ п/п	Задание (вопрос)	
<b>Инструкция по выполнению заданий № 24-30: В соответствующую строку бланка ответов запишите ответ на вопрос, окончание предложения или пропущенные слова.</b>		
24.	Допишите предложение:  Парой сил называют две параллельные силы равные по ..... и направленные в противоположные стороны.	1. Модулю
25.	Допишите предложение:  Тело длина которого значительно больше размеров поперечного сечения принято называть брусом или .....	1. Стержнем
26.	Допишите предложение:  Условие прочности состоит в том, что рабочие (расчетные) напряжения не должны превышать .....	Допускаемого напряжения
27.	Допишите предложение:  Кручение - это вид деформации, при котором в поперечных сечениях бруса возникает один внутренний силовой фактор .....	Крутящий момент
28.	Допишите предложение:  При чистом изгибе в поперечных сечениях балки возникает один внутренний силовой фактор - .....	Изгибающий момент
29.	Допишите предложение:  Сила инерции точки равна по величине произведению массы точки на ее ускорение и направленно в сторону, противоположную .....	1. Ускорению

30.	<p>Допишите предложение:</p> <p>Работа силы на прямолинейном перемещении равна произведению ..... на величину перемещения и на косинус угла между направлением силы и направлением перемещения.</p>	1. Модуля силы
-----	---	----------------

### Критерии оценивания

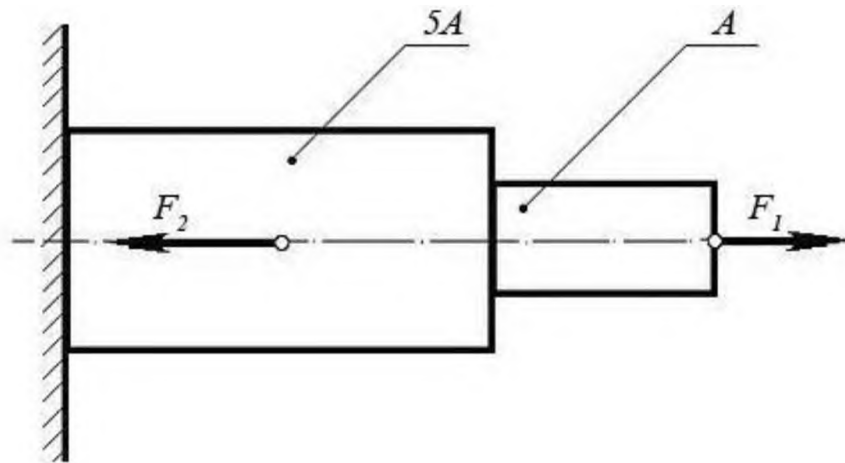
Оценка в пятибалльной шкале	Критерии оценки	Количество правильно данных вопросов
«2»	Выполнено менее 70% задания	Даны верные ответы менее, чем на 21 вопрос
«3»	Выполнено 70-79% задания	Даны верные ответы на 21 - 24 вопроса
«4»	Выполнено 80-89% задания	Даны верные ответы на 25 - 27 вопросов
«5»	Выполнено более 90% задания	Даны верные ответы на 28 вопросов и более

## Примеры задач

Задачи по дисциплине, предлагаемые решения во время урока, предназначены для усваивания и закрепления нового материала.

### Задача №1:

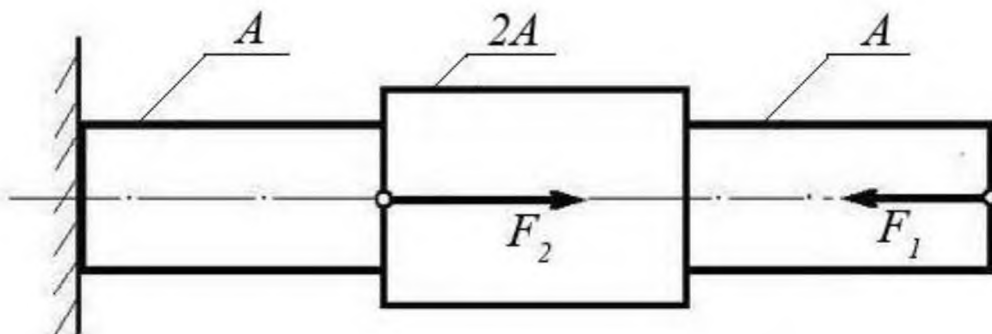
При помощи эпюры напряжений определить наиболее напряженный участок двухступенчатого круглого бруса, нагруженного продольными силами  $F_1$  и  $F_2$ .



Сила $F_1$	Сила $F_2$	Площадь сечения $A$
20 кН	80 кН	0,1 м <sup>2</sup>

### Задача №2:

Ступенчатый брус нагружен продольными силами  $F_1$  и  $F_2$ . Построить эпюру нормальных напряжений в сечениях бруса и указать наиболее напряженный участок. Вес бруса не учитывать.

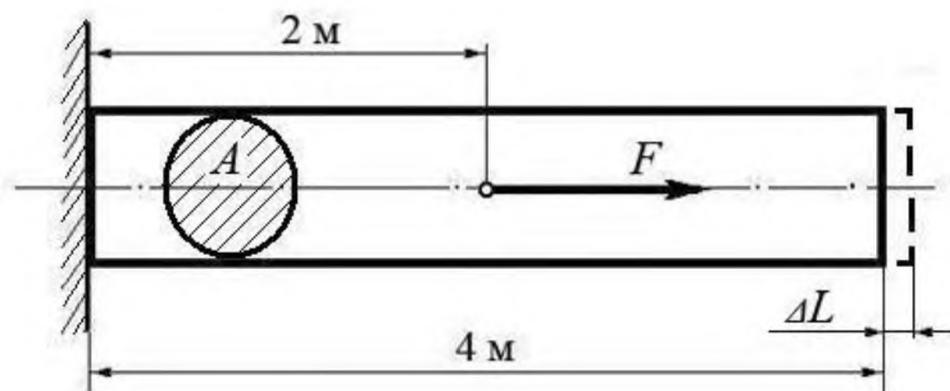


Сила $F_1$	Сила $F_2$	Площадь сечения $A$
10 кН	25 кН	0,2 м <sup>2</sup>

**Задача №3:**

Используя закон Гука, найти удлинение  $\Delta L$  однородного круглого бруса, если известно, что он изготовлен из алюминиевого сплава, имеющего модуль упругости  $E = 0,4 \times 10^5$  МПа.

Вес бруса не учитывать.



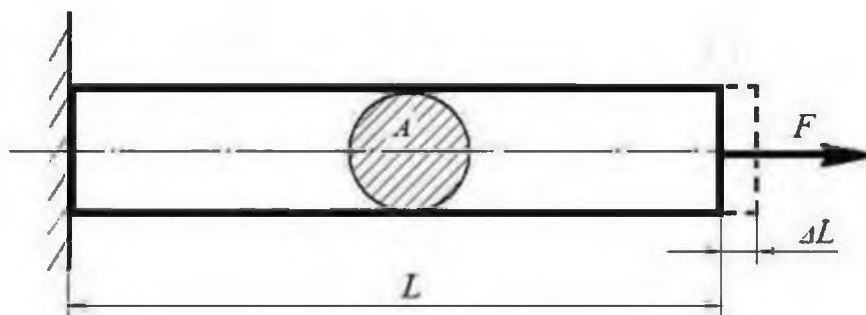
Сила $F$	Площадь сечения $A$
200 кН	0,01 м <sup>2</sup>

(Ответ: общее удлинение бруса  $\Delta L = FL / (EA) = 2 \times 10^5 \times 2 / 0,4 \times 10^{11} \times 0,01 = 10^{-3}$  м  
или  $\Delta L = 1,0$  мм)

**Задача №4:**

Однородный брус длиной  $L$  и поперечным сечением площадью  $A$  нагружен растягивающей силой  $F$ . Используя закон Гука, найти удлинение бруса  $\Delta L$ , если известно, что он изготовлен из стального сплава, имеющего модуль упругости  $E = 2,0 \times 10^5$  МПа.

Вес бруса не учитывать.



Сила $F$	Площадь сечения $A$	Длина бруса $L$
500 кН	0,05 м <sup>2</sup>	10 м

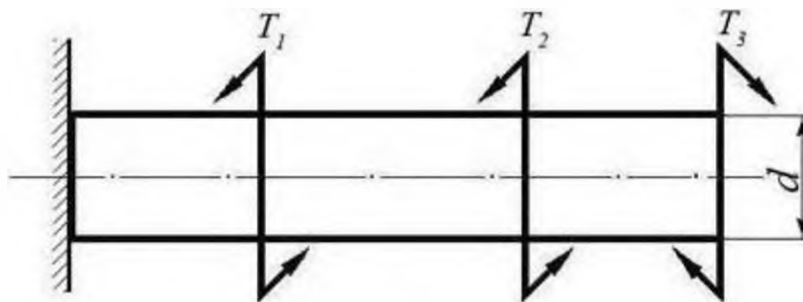
(Ответ: удлинение бруса  $\Delta L = FL / (EA) = 5 \times 10^5 \times 10 / 2 \times 10^{11} \times 0,05 = 5 \times 10^{-4}$  м или  $\Delta L = 0,5$  мм)

#### Задача №5:

Однородный круглый брус жестко зашцеилен одним концом и нагружен внешними вращающими моментами  $T_1$ ,  $T_2$  и  $T_3$ .

Построить эпюру крутящих моментов и выполнить проверочный расчет бруса на прочность, при условии, что предельно допустимое касательное напряжение:  $[\tau] = 30$  МПа.

При расчете принять момент сопротивления кручению круглого бруса  $W \approx 0,2 d^3$ .



Вращающий момент $T_1$	Вращающий момент $T_2$	Вращающий момент $T_3$	Диаметр бруса $d$
30 Нм	40 Нм	30 Нм	0,02 м

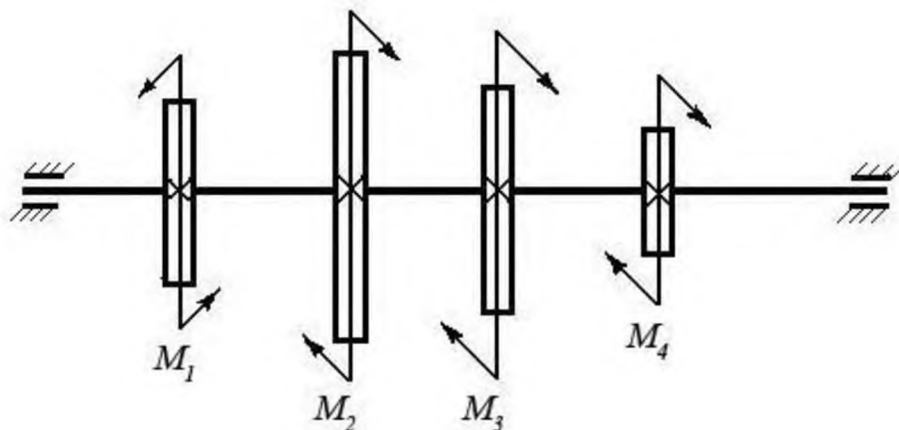
(Ответ: максимальное касательное напряжение в бусе - 25 МПа, что меньше предельно допустимого, т.е. брус выдержит заданную нагрузку.)



**Задача №6:**

Однородный круглый вал нагружен вращающими моментами  $M_1$ ,  $M_2$ ,  $M_3$  и  $M_4$ . Построить эпюру крутящих моментов в сечениях вала и определить наиболее напряженный участок.

С помощью формулы  $M_{кр} \approx 0,2 d^3 [\tau]$  определить минимальный допустимый диаметр вала  $d$  из условия прочности.

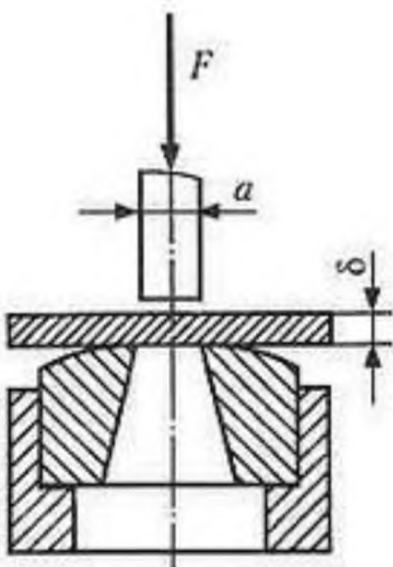


$[\tau]$	$M_1$	$M_2$	$M_3$	$M_4$
30 МПа	160 Нм	50 Нм	80 Нм	30 Нм

(Ответ: диаметр вала  $d$  из условия прочности должен быть не менее 30 мм.)

**Задача №7**

Определите силу  $F$ , необходимую для продавливания круглым пуансоном диаметром  $a$  отверстия в листе металла толщиной  $\delta$ . Предел прочности листового металла на срез:  $[\tau] = 360$  МПа.



Толщина листа металла $\delta$	Диаметр пробойника $a$
0,5 мм	10 мм

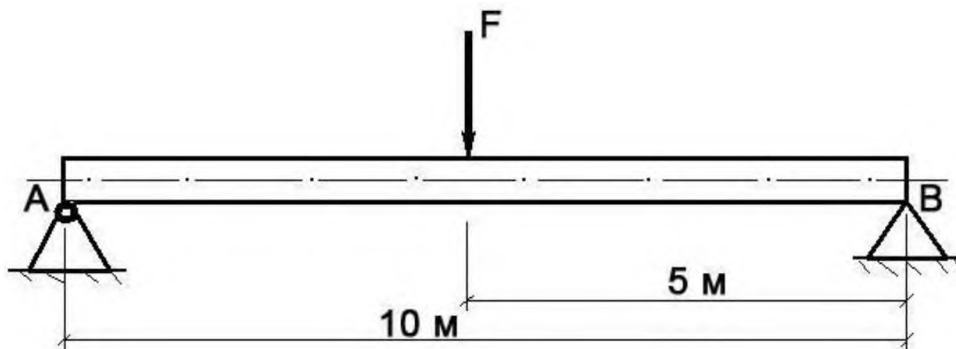
(Ответ:  $F \geq A_{ср} \times [\tau] \geq \delta \times \pi \times a \times [\tau] \geq 0,0005 \times 3,14 \times 0,01 \times 360 \times 10^6 \geq 5652$  Н, здесь  $A_{ср}$  – площадь цилиндрической поверхности, по которой осуществляется срез)

### Задача №8

Брус постоянного сечения опирается на две опоры, одна из которых шарнирная, вторая – угловая (ребро). В середине бруса приложена поперечная изгибающая сила  $F = 200 \text{ Н}$ .

Построить эпюру изгибающих моментов и показать наиболее нагруженное сечение бруса.

Вес бруса не учитывать.

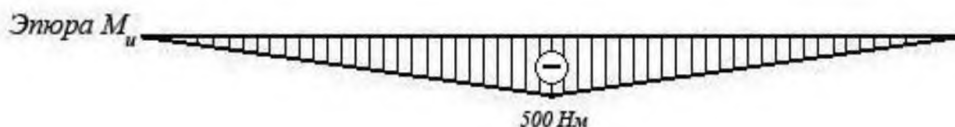


Решение задачи:

1. Исходя из того, что реакция угловой опоры направлена по нормали к оси бруса, составляем уравнение равновесия относительно опоры A (из условия равновесия - сумма моментов относительно любой точки бруса равна нулю) и определяем реакцию опоры B:

$$10 R_B - 5 F = 0 \Rightarrow R_B = 5 F / 10 = 100 \text{ Н};$$

2. Строим эпюру изгибающих моментов, начиная от опоры B. Наиболее нагруженное сечение бруса (изгибающий момент - 500 Нм) находится в его середине.

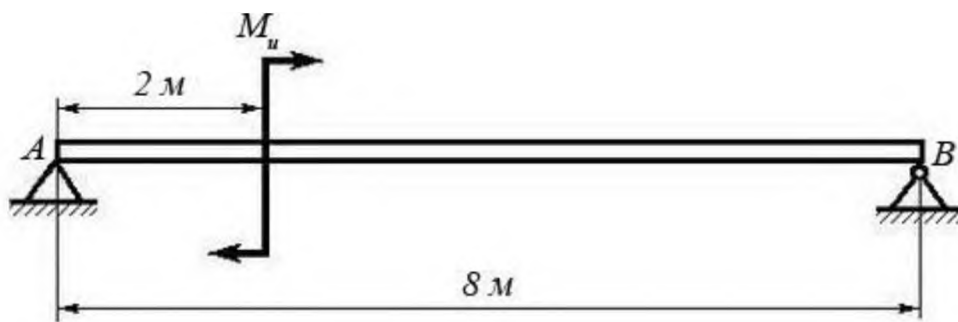


### Задача №9

Брус постоянного сечения опирается на две опоры, одна из которых угловая (ребро), вторая – шарнирная. Брус нагружен изгибающим моментом  $M_u = 160 \text{ Нм}$ .

Построить эпюру изгибающих моментов и показать наиболее нагруженное сечение бруса.

Вес бруса не учитывать.



Решение задачи:

1. Исходя из того, что реакция угловой опоры направлена по нормали к оси бруса, составляем уравнение равновесия относительно опоры B (из условия равновесия - сумма моментов относительно любой точки бруса равна нулю) и определяем реакцию опоры A:

$$8 R_A - M_u = 0 \Rightarrow R_A = M_u / 8 = 20 \text{ Н};$$

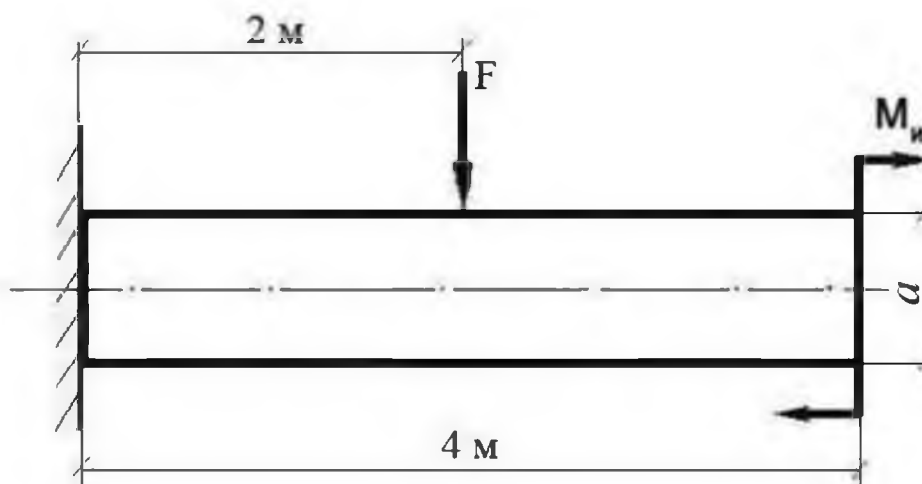
2. Строим эпюру изгибающих моментов, начиная от опоры A. Наиболее нагруженное сечение бруса (изгибающий момент - 120 Нм) находится рядом с сечением, в котором приложен изгибающий момент  $M_u$  (со стороны опоры B)



### Задача №10:

Построить эпюру изгибающих моментов и выполнить расчет квадратного бруса на прочность, при условии, что предельно допустимое нормальное напряжение при изгибе:  $[\sigma] \leq 100 \text{ МПа}$ .

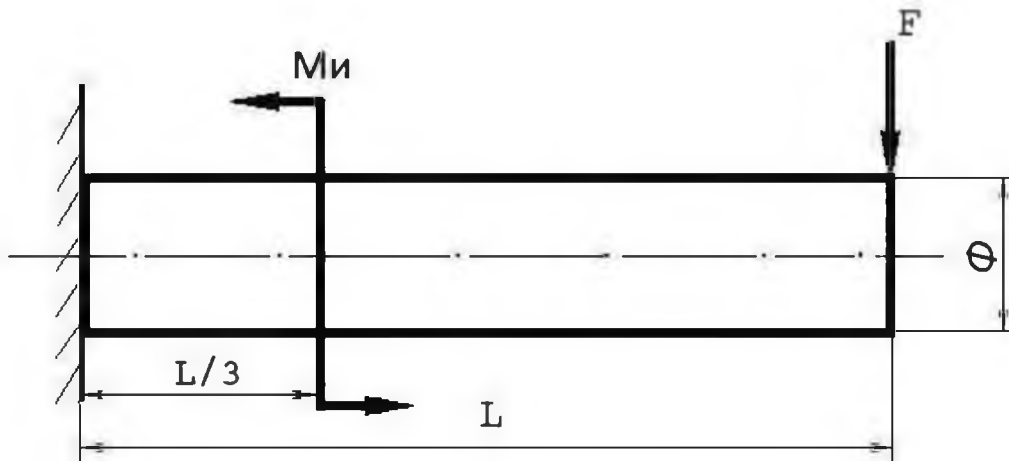
Вес бруса не учитывать.



<b>F</b>	<b>M<sub>и</sub></b>	<b>a</b>
100 Н	100 Н/м	0,1 м

### Задача №11

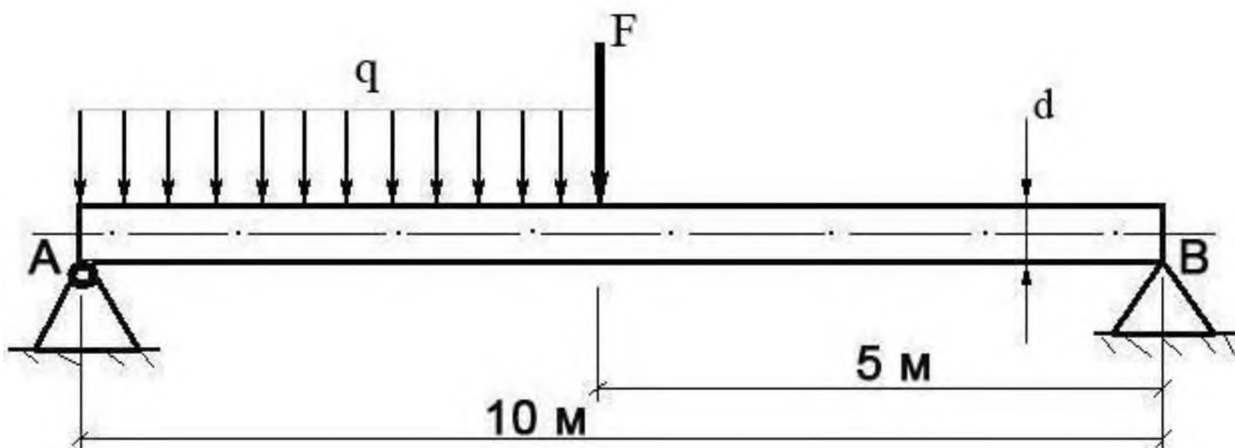
Построить эпюру изгибающих моментов и выполнить расчет бруса на прочность, при условии, что предельно допустимое нормальное напряжение при изгибе:  $[\sigma] \leq 100$  МПа. Вес бруса не учитывать.



Изгибающий момент <i>M<sub>и</sub></i>	Поперечная сила <i>F</i>	Длина бруса <i>L</i>	Диаметр бруса <i>Φ</i>
25 Нм	250 Н	12 м	8 см

### Задача №12

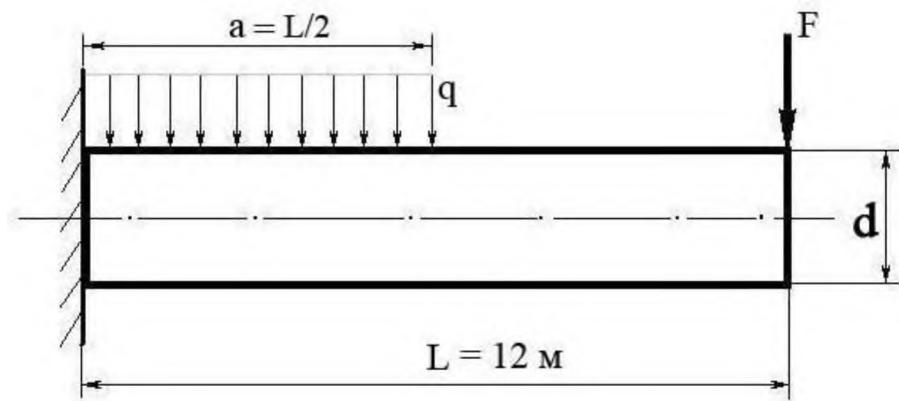
Построить эпюру изгибающих моментов и выполнить расчет круглого бруса на прочность, при условии, что предельно допустимое нормальное напряжение при изгибе:  $[\sigma] \leq 100$  МПа.



Поперечная сила <b>F</b>	Распределенная нагрузка <b>q</b>	Диаметр бруса <b>d</b>
100 Н	20 Н/м	10 см

### Задача №13

Построить эпюру изгибающих моментов и выполнить расчет бруса на прочность, при условии, что предельно допустимое нормальное напряжение при изгибе:  $[\sigma] \leq 100$  МПа. Брус считать невесомым.



Распределенная нагрузка <b>q</b>	Поперечная сила <b>F</b>	Диаметр бруса <b>d</b>
100 Н/м	200 Н	15 см

## Примеры билетов для контрольных работ

### Пояснительная записка

**Цель:** определение уровня сформированности базовых знаний, умений, навыков по учебной дисциплине «Техническая механика».

**Темы, выносимые на контрольную работу:** виды машин и механизмов, сборочные единицы и детали, современные передачи.

**Форма контрольной работы:** варианты заданий в тестовой форме

Данная контрольная работа представлена в двух вариантах, каждый из которых содержит по 14 заданий разного уровня: задания с выбором 1 правильного ответа – 10 заданий, 3 задания – второго уровня, 1 задание – третьего уровня.

Максимальное количество баллов – 23.

#### Критерии оценки:

**21-23 баллов** – соответствует оценке «отлично»;

**18-20 баллов** - соответствует оценке «хорошо»;

**15-17 баллов** - соответствует оценке «удовлетворительно»;

**менее 14 баллов** – соответствует оценке «неудовлетворительно».

**Контрольная работа по учебной дисциплине  
«Техническая механика».**

**Вариант 1.**

**Задания А. Из 4 вариантов ответов выберите 1 правильный (max 10 б)**

**1. Как обозначается работа?**

- А)  $a$
- Б)  $M$
- В)  $A$
- В)  $N$

**2. Какой раздел в технической механике изучает условия равновесия тел под действием сил?**

- А) Кинематика.
- Б) Статика.
- В) Механика.
- Г) Динамика.

**3. Как называются тела, перемещение которых не ограничено?**

- А) Связанные.
- Б) Свободные.
- В) Простые.
- Г) Независимые.

**4. Как называется брус, работающий на растяжение или сжатие?**

- А) Заготовка.
- Б) Балка.
- В) Вал.
- Г) Стержень.

**5. Чему равен коэффициент трения скольжения материалов: сталь по стали?**

- А) 0.1
- Б) 0.2
- В) 0.3
- Г) 0.4

**6. Какое соединение не относится к неразъемному соединению?**

- А) Сварное
- Б) Клиновое
- В) Клепаное
- Г) С натягом

**7. В какой передаче движение от ведущего тела передается ведомому за счет сил трения?**

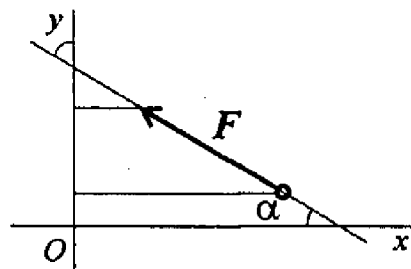
- А) Ременной
- Б) Фрикционной

- В) Зубчатой
- Г) Червячной

**8. Как называется способность материала сохранять первоначальную форму упругого равновесия?**

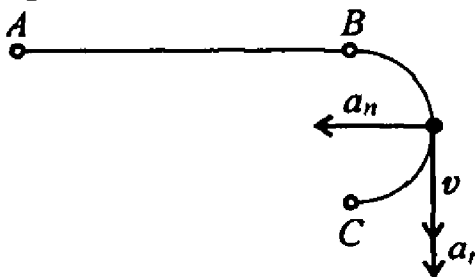
- А) Выносливость
- Б) Вязкость
- В) Прочность
- Г) Устойчивость

**9. Подберите выражение для расчета проекции силы  $F$  на ось  $Oy$ .**



- А)  $F \cos \alpha$ ;
- Б)  $F \cos (180^\circ - \alpha)$ ;
- В)  $F \sin \alpha$ ;
- Г)  $-F \cos \alpha$ .

**10. По изображенным параметрам, точка движется по линии ABC. Определите вид движения.**



- А) равномерное;
- Б) равноускоренное;
- В) равнозамедленное;
- Г) неравномерное.



## Задания В

**В 1. Установите соответствие между понятием и его определением (max 4б.):**

Понятие		Определение	
1.	Прочность	А	Способность воспринимать ударные нагрузки.
2.	Устойчивость	Б	Способность длительное время удерживать переменные нагрузки.
3.	Выносливость	В	Способность не разрушаться под нагрузкой.
4.	Вязкость	Г	Способность сохранять начальную форму упругого равновесия

1 \_\_\_\_\_; 2 \_\_\_\_\_; 3 \_\_\_\_\_; 4 \_\_\_\_\_.

**В 2. Допишите понятие (max 1б.):**

Сила – это:

**В 3. Установите порядок решения задач с использованием принципа Даламбера (max 4 б.):**

- А) выяснить направление и величину ускорения;
- Б) составить систему уравнения равновесия, определить неизвестные величины;
- В) составить расчетную схему, выбрать систему координат;
- Г) условно приложить силу инерции.

**Задание С (max 4 б.)**

**Решите задачу, исходя из следующих условий:**

Снаряд вылетел со скоростью  $v = 320$  м/с, сделав внутри ствола  $n = 2,0$  оборота. Длина ствола  $l = 2,0$  м. Считая движение снаряда в стволе равноускоренным, найдите его угловую скорость вращения вокруг оси в момент вылета.

**Вариант 2.**

**Задания А. Из 4 вариантов ответов выберите 1 правильный (max 10 б)**

**1. Как обозначается сила?**

- А) F
- Б) f
- В) m
- Г) P

**2. Что изучает движение тел под действием сил?**

- А) Статика.
- Б) Механика.
- В) Динамика.
- Г) Кинематика.

**3. Как называются тела, перемещение которых ограничено другими телами?**

- А) Связанные.
- Б) Свободные.
- В) Сложные.
- Г) Зависимые.

**4. Как называется брус, к которому приложены силы под углом?**

- А) Заготовка.
- Б) Балка.
- В) Вал.
- Г) Стержень.

**5. Чему равен коэффициент трения скольжения материалов: дерево по дереву?**

- А) 0.1
- Б) 0.2
- В) 0.3
- Г) 0.4

**6. Какое соединение не относится к разъемному соединению?**

- А) Резьбовое
- Б) Клиновое
- В) Клепаное
- Г) Шпоночное

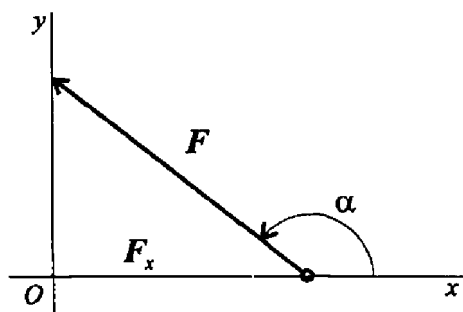
**7. В какой передаче с помощью зубчатого зацепления передается или преобразуется движение с изменением угловой скорости и моментов?**

- А) Ременной
- Б) Фрикционной
- В) Зубчатой
- Г) Червячной

8. Как называется способность материала не разрушаться под действием нагрузки?

- А) Прочность
- Б) Вязкость
- В) Выносливость
- Г) Устойчивость

9. Определите величину угла между заданной силой и осью  $Ox$ , если известны величины силы и ее проекции на ось  $Ox$ :  $F_x = -21$  кН.  $F = 30$  кН.



- А)  $30^\circ$ ;
- Б)  $45^\circ$ ;
- В)  $135^\circ$ ;
- Г)  $150^\circ$ .

10. Сколько независимых уравнений равновесия можно записать для пространственных системы сил?

- А) 3;
- Б) 6;
- В) 4;
- Г) 2.

**Задания В.****В 1. Установите соответствие между понятием и его определением (max 4б.):**

Понятие		Определение	
1.	Расчет на жесткость	А	Обеспечивает необходимую долговечность элементов конструкции.
2.	Расчет на прочность	Б	Обеспечивает деформации конструкции под нагрузкой в пределах допустимых норм.
3.	Расчет на выносливость	В	Обеспечивает сохранение необходимой формы равновесия и предотвращает внезапное искривление длинных стержней.
4.	Расчет на устойчивость	Г	Обеспечивает не разрушение конструкции.

1\_\_\_\_; 2\_\_\_\_; 3\_\_\_\_; 4\_\_\_\_\_.

**В 2. Допишите понятие: (max 1б.):**

Пара сил – это:

**В 3. Установите порядок решения задач на равновесие геометрическим способом (max 4б.):**

А) определить возможное направление реакции связи;

Б) для уточнения решения рекомендуется определить величины векторов (сторон многоугольника) с помощью геометрических зависимостей;

В) измерить полученные векторы сил и определить их величину, учитывая выбранный масштаб;

Г) вычертить многоугольник сил системы, начиная с известных сил в некотором масштабе;

**Задание С (max 4б.)****Решите задачу, исходя из следующих условий:**

Два твердых тела вращаются вокруг неподвижных взаимно перпендикулярных пересекающихся осей с постоянными угловыми скоростями  $\omega_1 = 3,0$  рад/с и  $\omega_2 = 4,0$  рад/с. Найдите угловую скорость и угловое ускорение одного тела относительно другого.

## Эталоны ответов

### Вариант 1

#### Задания А

- |      |       |
|------|-------|
| 1. В | 6. Б  |
| 2. Б | 7. Б  |
| 3. Б | 8. Г  |
| 4. Г | 9. В  |
| 5. А | 10. Б |

#### Задания В

В 1 1 - В; 2 – Г; 3 – Б; 4 – А

В 2 Сила – это мера механического взаимодействия материальных тел между собой.

В 3 В, А, Г, Б.

#### Задания С

Дано:

$$V=320\text{м/с}$$

$$L=2\text{м}$$

$$n=2$$

$\omega$ -?

Решение

$$a = v/t \quad \omega = 2\pi\nu \quad \nu = n/T = 2n/t, \text{ м. к. } T = t/2$$

$$l = at^2/2 = (v/t)t^2/2 = vt/2 \Rightarrow t = 2l/v$$

$$\omega = 2\pi n \cdot (2/t) = (2\pi n v)/l = 2009,6 \text{ рад/с}$$

## Эталоны ответов

### Вариант 2

#### Задания А

- |      |       |
|------|-------|
| 1. А | 6. В  |
| 2. В | 7. В  |
| 3. А | 8. А  |
| 4. Б | 9. В  |
| 5. В | 10. Б |

#### Задания В

В 1 1 - Б; 2 - Г; 3 - А; 4 - В

В 2 Пара сил – это система двух сил, равных по модулю, параллельных и направленных в разные стороны.

В 3 А, Г, В, Б

### Задания С

Дано:	Решение:
$\omega_1, \omega_2$	1) $\bar{\omega} = \bar{\omega}_1 + \bar{\omega}_2, \omega = \sqrt{\omega_1^2 + \omega_2^2}$
$\omega - ?$	2) Пусть за промежуток времени $dt$ был совершен поворот на угол $d\varphi$ .
$\varepsilon - ?$	Тогда: $\varepsilon = \frac{d\omega_1}{dt}, d\omega_1 = \omega_1 d\varphi$ <p>Угол <math>d\varphi</math> обусловлен угловой скоростью <math>\bar{\omega}_2</math>, поэтому <math>d\varphi = \omega_2 dt</math>. В итоге:</p> $\varepsilon = \frac{\omega_1 \omega_2 dt}{dt} = \omega_1 \omega_2$

Контрольные задания для рубежного контроля могут выдаваться в виде тестов или билетов, включающих один теоретический вопрос и задачу.

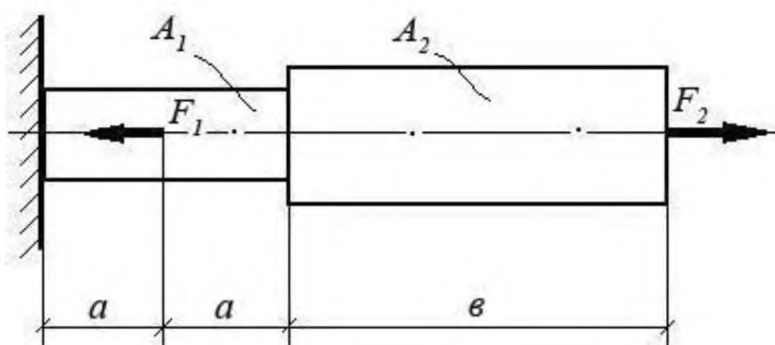
### Билет № 1

#### Теоретический вопрос:

Раскройте смысловое содержание гипотезы плоских сечений (гипотезы Бернулли).

#### Задача:

При помощи эпюры напряжений определить наиболее напряженный участок двухступенчатого круглого бруса, нагруженного продольными силами  $F_1$  и  $F_2$ . Найти удлинение бруса, если известно, что он изготовлен из алюминиевого сплава, имеющего модуль упругости  $E = 0,7 \times 10^{11}$  Па.



$F_1$	$F_2$	$A_1$	$A_2$	$a$	$b$
10 кН	20 кН	0,1 м <sup>2</sup>	0,2 м <sup>2</sup>	1 м	3 м

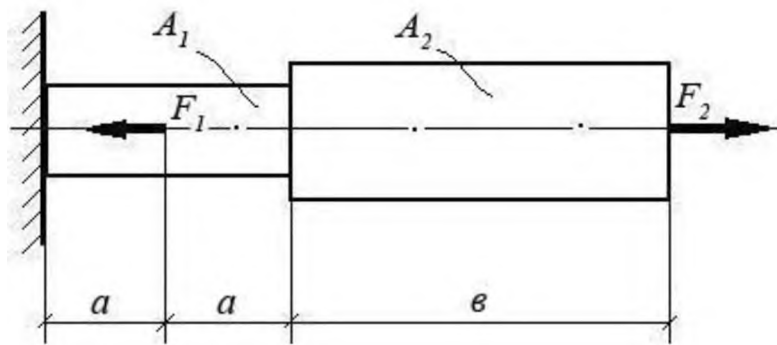
### Билет № 2

#### Теоретический вопрос:

Перечислите основные виды нагрузок и деформаций. Приведите примеры.

#### Задача:

При помощи эпюры напряжений определить наиболее напряженный участок двухступенчатого круглого бруса, нагруженного продольными силами  $F_1$  и  $F_2$ . Найти удлинение бруса, если известно, что он изготовлен из стали, имеющей модуль упругости  $E = 2,0 \times 10^{11}$  Па.



$F_1$	$F_2$	$A_1$	$A_2$	$a$	$b$
15 кН	40 кН	0,3 м <sup>2</sup>	0,5 м <sup>2</sup>	2 м	5 м

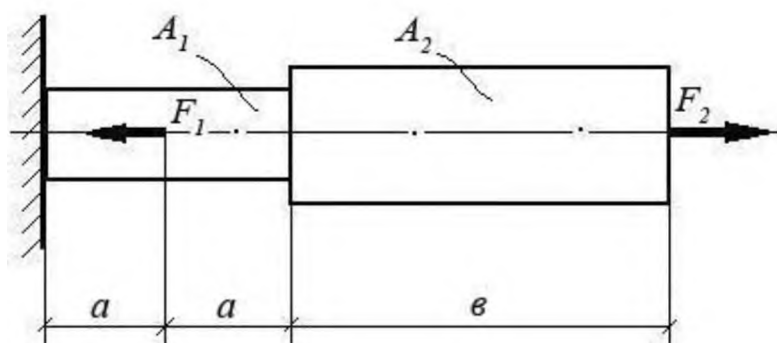
### Билет № 3

#### Теоретический вопрос:

Назовите виды деформаций, при которых в сечении возникают продольные силы.

#### Задача:

При помощи эпюры напряжений определить наиболее напряженный участок двухступенчатого круглого бруса, нагруженного продольными силами  $F_1$  и  $F_2$ . Найти удлинение бруса, если известно, что он изготовлен из меди, имеющей модуль упругости  $E = 1,2 \times 10^{11}$  Па.



$F_1$	$F_2$	$A_1$	$A_2$	$a$	$b$
1500 Н	1200 Н	0,05 м <sup>2</sup>	0,12 м <sup>2</sup>	0,5 м	2,0 м

### Билет № 4

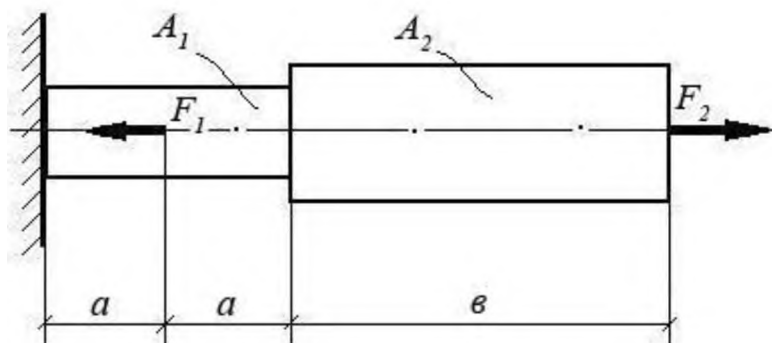
#### Теоретический вопрос:

При каком виде деформации в сечении возникает только поперечная сила? Приведите примеры.

#### Задача:



При помощи эпюры напряжений определить наиболее напряженный участок двухступенчатого круглого бруса, нагруженного продольными силами  $F_1$  и  $F_2$ . Найти удлинение бруса, если известно, что он изготовлен из алюминиевого сплава, имеющего модуль упругости  $E = 0,7 \times 10^{11}$  Па.



$F_1$	$F_2$	$A_1$	$A_2$	$a$	$b$
10 кН	20 кН	0,1 м <sup>2</sup>	0,2 м <sup>2</sup>	1 м	3 м

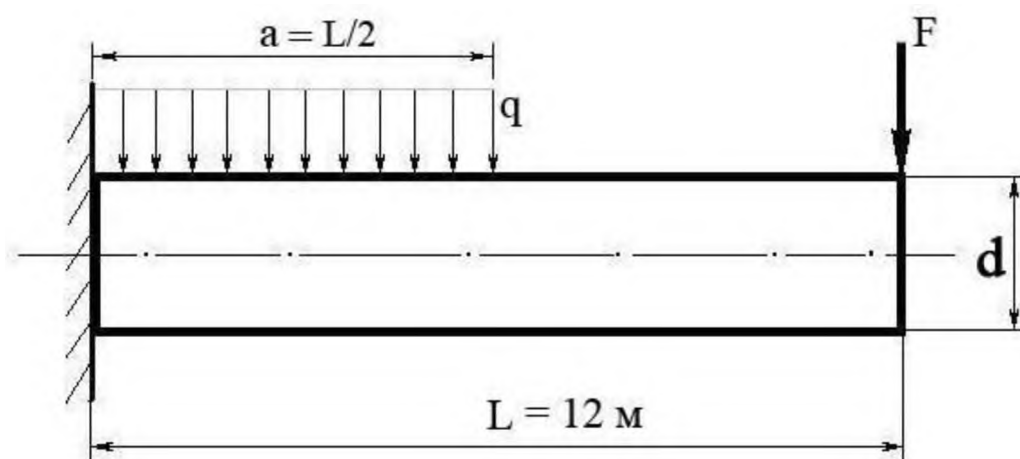
### Билет № 5

#### Теоретический вопрос:

При каком виде деформации в сечении возникает только крутящий момент?  
Приведите примеры.

#### Задача:

Построить эпюру изгибающих моментов и выполнить расчет бруса на прочность, при условии, что предельно допустимое нормальное напряжение при изгибе:  $[\sigma] \leq 100$  МПа. Брус невесомый.



$F$	$q$	Диаметр бруса $d$
100 Н	100 Н/м	10 см

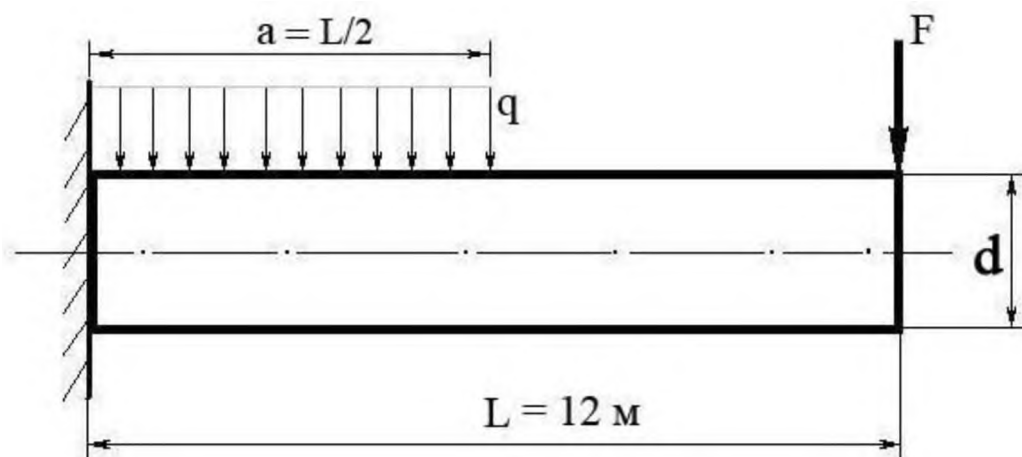
## Билет № 6

### Теоретический вопрос:

Сформулируйте закон Гука при растяжении и сжатии. Запишите его математически в виде формулы.

### Задача:

Построить эпюру изгибающих моментов и выполнить расчет бруса на прочность, при условии, что предельно допустимое нормальное напряжение при изгибе:  $[\sigma] \leq 100$  МПа. Брус невесомый.



$F$	$q$	Диаметр бруса $d$
300 Н	50 Н/м	8 см

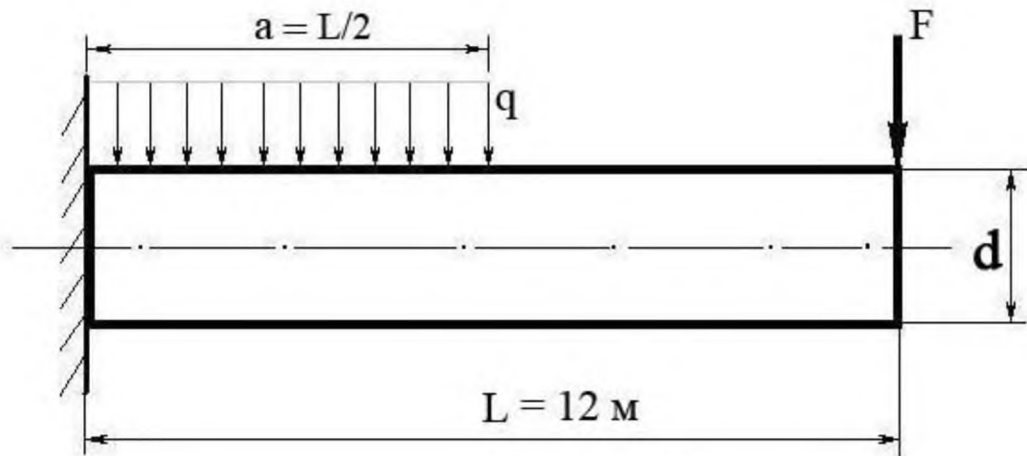
## Билет № 7

### Теоретический вопрос:

При каком виде деформации в сечении возникает только изгибающий момент? Приведите примеры.

### Задача:

Построить эпюру изгибающих моментов и выполнить расчет бруса на прочность, при условии, что предельно допустимое нормальное напряжение при изгибе:  $[\sigma] \leq 100$  МПа. Брус невесомый.



$F$	$q$	Диаметр бруса $d$
300 Н	40 Н/м	0,05 м

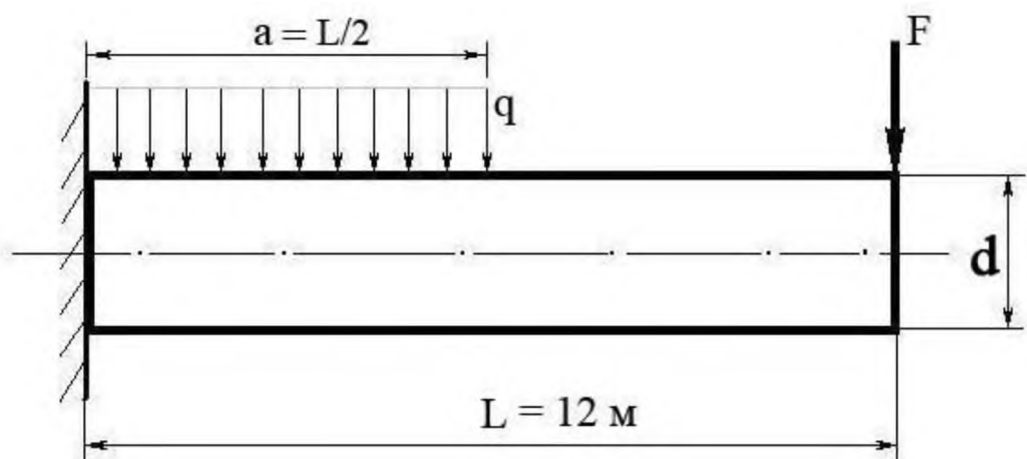
### Билет № 8

#### Теоретический вопрос:

Сформулируйте закон Гука при сдвиге. Запишите его математически в виде формулы.

#### Задача:

Построить эпюру изгибающих моментов и выполнить расчет бруса на прочность, при условии, что предельно допустимое нормальное напряжение при изгибе:  $[\sigma] \leq 100 \text{ МПа}$ . Брус невесомый.



$F$	$q$	Диаметр бруса $d$
100 Н	200 Н/м	0,1 м

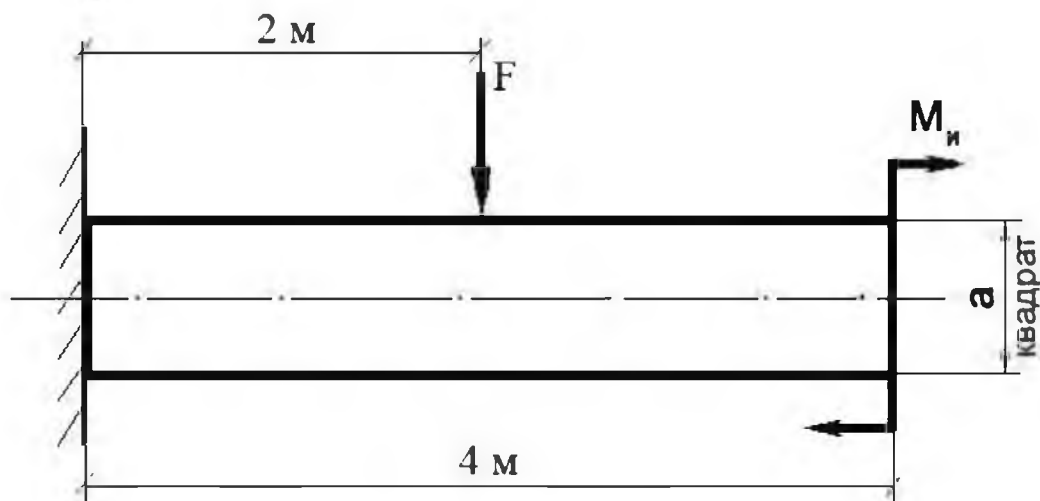
### Билет № 9

#### Теоретический вопрос:

Сформулируйте закон Гука при чистом изгибе, запишите в виде формулы.

#### Задача:

Построить эпюру изгибающих моментов и выполнить расчет квадратного бруса на прочность, при условии, что предельно допустимое нормальное напряжение при изгибе:  $[\sigma] \leq 100 \text{ МПа}$ .



$F$	$M_n$	$a$
100 Н	100 Н/м	0,1 м

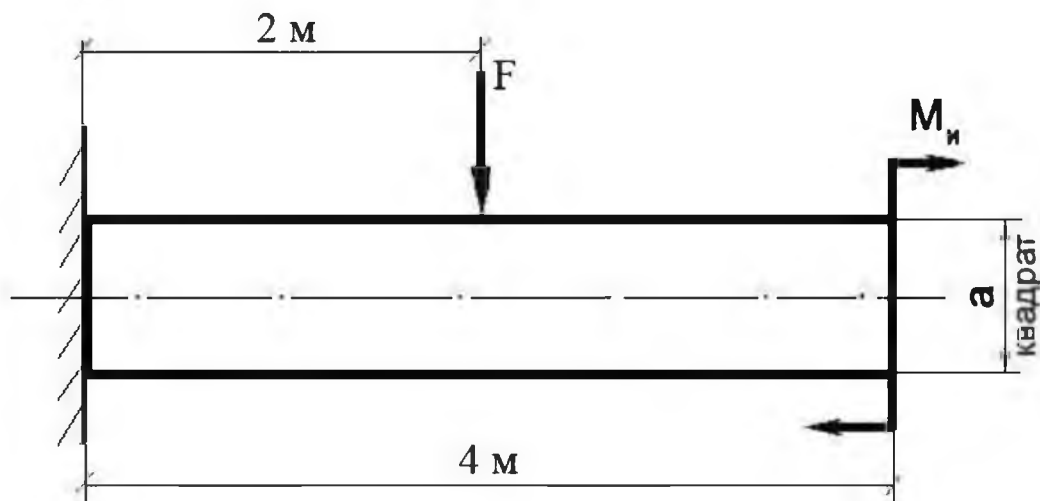
#### Билет № 10

##### *Теоретический вопрос:*

Что такое «модуль упругости первого рода»?

##### *Задача:*

Построить эпюру изгибающих моментов и выполнить расчет квадратного бруса на прочность, при условии, что предельно допустимое нормальное напряжение при изгибе:  $[\sigma] \leq 100 \text{ МПа}$ .



$F$	$M_n$	$a$
200 Н	20 Н/м	0,08 м

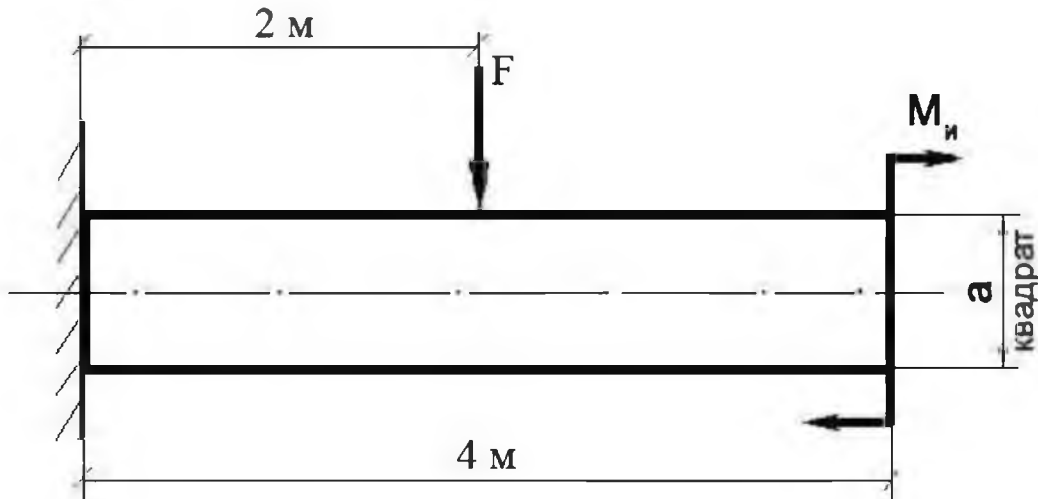
## Билет № 11

### Теоретический вопрос:

Какова зависимость между продольной и поперечной деформациями при растяжении? Формула Пуассона и ее пояснение.

### Задача:

Построить эпюру изгибающих моментов и выполнить расчет квадратного бруса на прочность, при условии, что предельно допустимое нормальное напряжение при изгибе:  $[\sigma] \leq 100 \text{ МПа}$ .



F	$M_n$	a
150 Н	10 Н/м	0,1 м

## Билет № 12

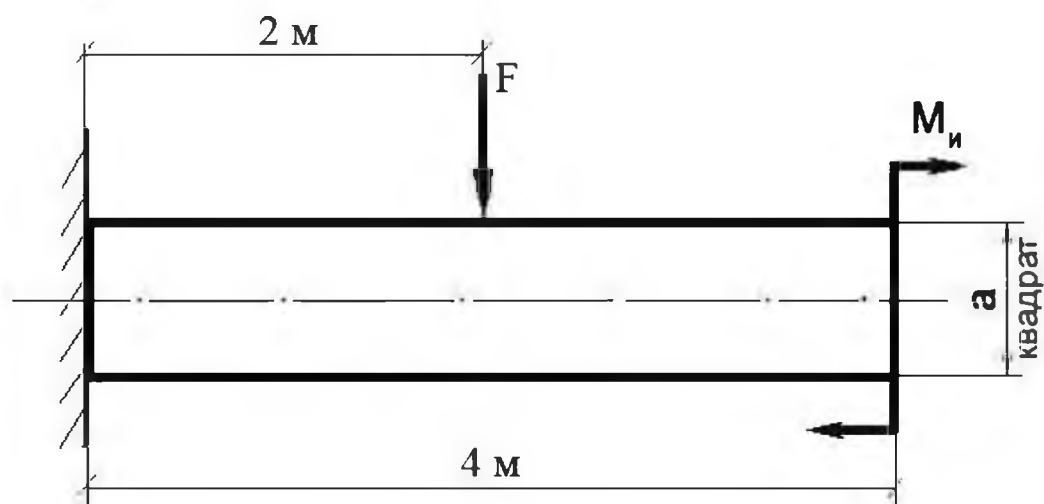
### Теоретический вопрос:

Что такое «жесткость» и «прочность» детали? Для чего проводят расчеты на жесткость и прочность?

### Задача:

Построить эпюру изгибающих моментов и выполнить расчет квадратного бруса на прочность, при условии, что предельно допустимое нормальное напряжение при

изгибе:  $[\sigma] \leq 100 \text{ МПа}$ .



$F$	$M_n$	$a$
50 Н	50 Н/м	0,05 м

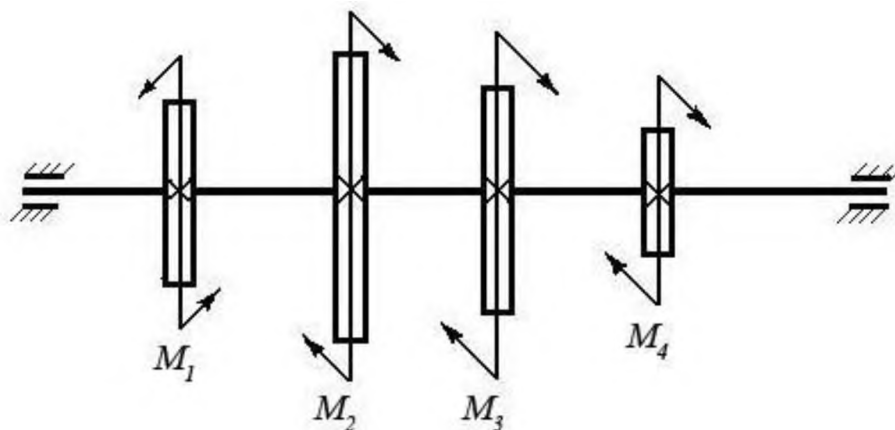
### Билет № 13

#### Теоретический вопрос:

Перечислите допущения и гипотезы, принимаемые в расчетах сопротивления материалов.

#### Задача:

Построить эпюру крутящих моментов в сечениях круглого вала и определить наиболее напряженный участок. По формуле  $M_{кр} = 0,2 d^3 [\tau]$  определить минимальный допустимый диаметр вала из условия прочности.



$[\tau]$	$M_1$	$M_2$	$M_3$	$M_4$
35 Н/мм <sup>2</sup>	1200 Нм	450 Нм	250 Нм	500 Нм

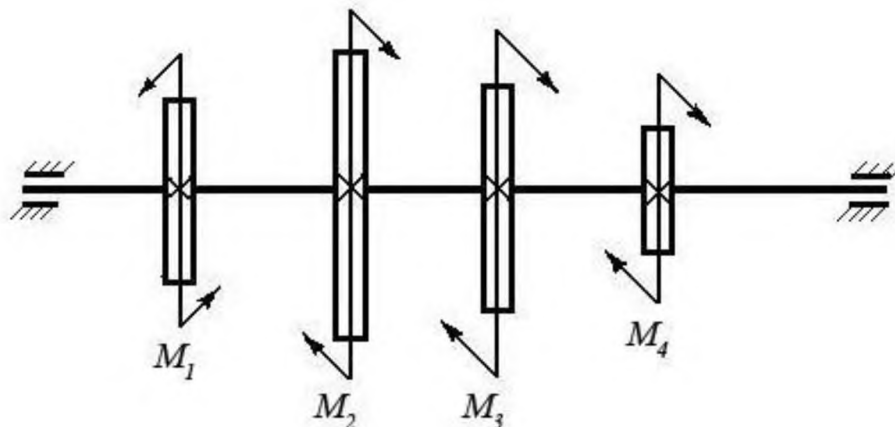
## Билет № 14

### Теоретический вопрос:

Сформулируйте закон Гука при растяжении и сжатии. Запишите его математически в виде формулы.

### Задача:

Построить эпюру крутящих моментов в сечениях круглого вала и определить наиболее напряженный участок. По формуле  $M_{кр} = 0,2 d^3 [\tau]$  определить минимальный допустимый диаметр вала из условия прочности.



$[\tau]$	$M_1$	$M_2$	$M_3$	$M_4$
30 Н/мм <sup>2</sup>	100 Нм	550 Нм	250 Нм	200 Нм

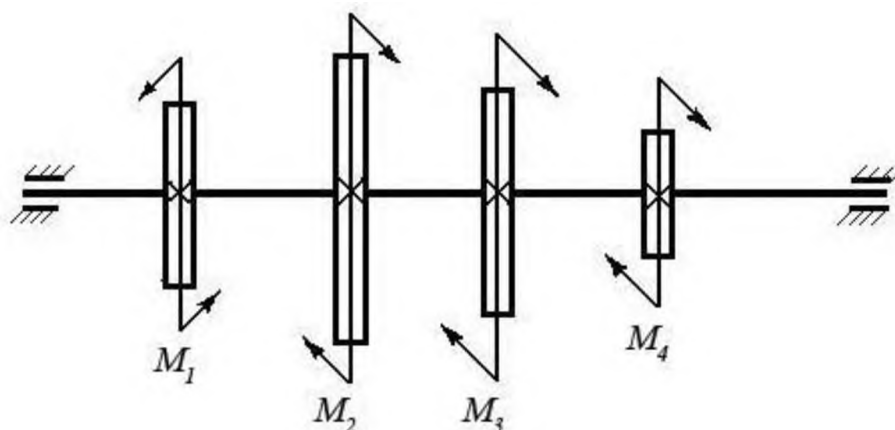
## Билет № 15

### Теоретический вопрос:

Сформулируйте принцип смягченных границ (принцип Сен-Венана).

### Задача:

Построить эпюру крутящих моментов в сечениях круглого вала и определить наиболее напряженный участок. По формуле  $M_{кр} = 0,2 d^3 [\tau]$  определить минимальный допустимый диаметр вала из условия прочности.



$[\tau]$	$M_1$	$M_2$	$M_3$	$M_4$
25 Н/мм <sup>2</sup>	600 Нм	150 Нм	250 Нм	200 Нм

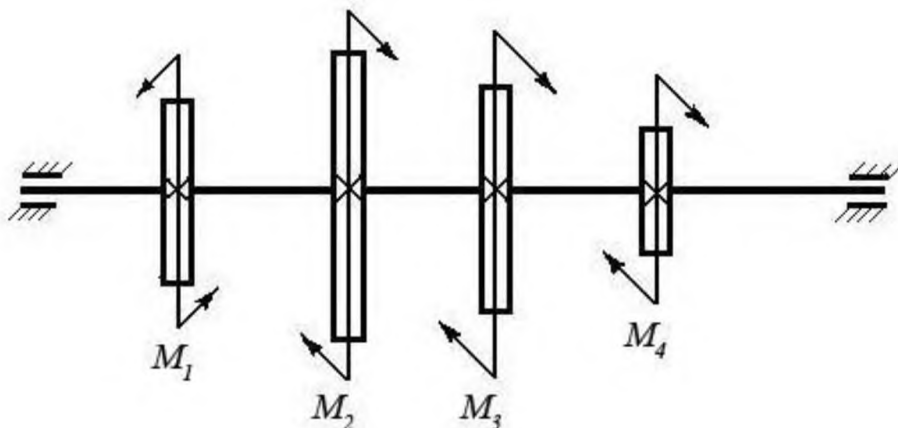
### Билет № 16

#### Теоретический вопрос:

Что такое полярный момент инерции плоской фигуры (плоского сечения)?

#### Задача:

Построить эпюру крутящих моментов в сечениях круглого вала и определить наиболее напряженный участок. По формуле  $M_{кр} = 0,2 d^3 [\tau]$  определить минимальный допустимый диаметр вала из условия прочности.



$[\tau]$	$M_1$	$M_2$	$M_3$	$M_4$
30 Н/мм <sup>2</sup>	550 Нм	250 Нм	150 Нм	150 Нм

### Билет № 17

#### Теоретический вопрос:

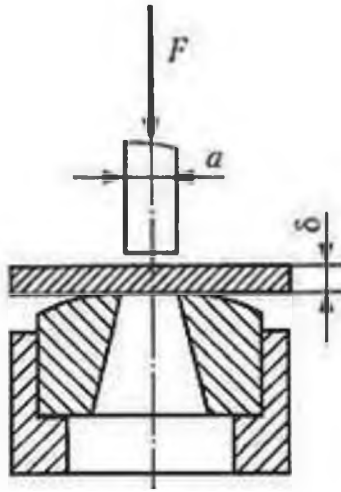
Когда в деталях конструкций возникают контактные напряжения? Приведите примеры.

#### Задача:

Определите силу  $F$ , необходимую для пробивания пробойником диаметром  $a$  отверстия в листе металла толщиной  $\delta$ . Предел прочности металла при срезе:  $[\tau] = 360$  МПа.

$\delta$	$a$
35 Н/мм <sup>2</sup>	8 мм





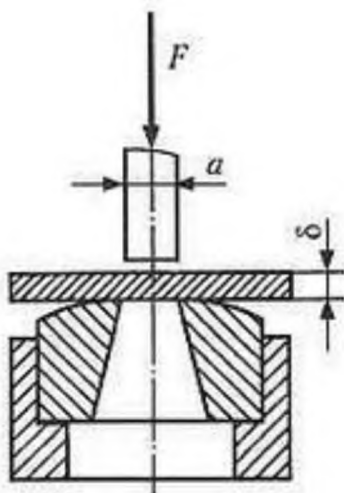
### Билет № 18

#### Теоретический вопрос:

Что такое «коэффициент запаса прочности» и как он определяется?

#### Задача:

Определите силу  $F$ , необходимую для пробивания пробойником диаметром  $a$  отверстия в листе металла толщиной  $\delta$ . Предел прочности металла при срезе:  $[\tau] = 360$  МПа.



$\delta$	$a$
35 Н/мм <sup>2</sup>	14 мм

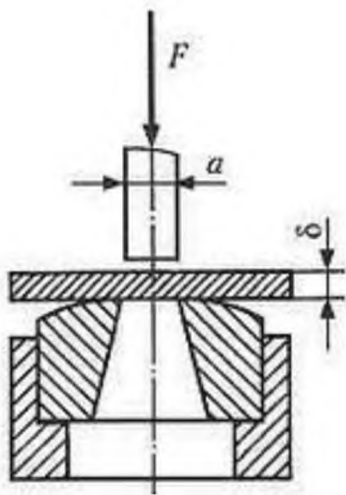
### Билет № 19

#### Теоретический вопрос:

Что такое «приведенная длина стержня» в формуле Эйлера для расчетов стержней на устойчивость? Приведите примеры.

#### Задача:

Определите силу  $F$ , необходимую для пробивания пуансоном диаметром  $a$  отверстия в листе металла толщиной  $\delta$ . Предел прочности металла при срезе:  $[\tau] = 360$  МПа.



$\delta$	$a$
35 Н/мм <sup>2</sup>	12 мм

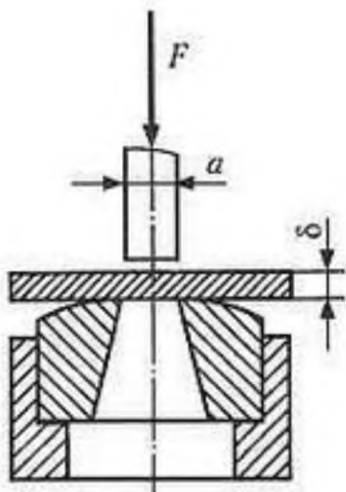
## Билет № 20

### Теоретический вопрос:

В чем отличие между чистым и поперечным изгибом бруса?

### Задача:

Определите силу  $F$ , необходимую для пробивания пробойником диаметром  $a$  отверстия в листе металла толщиной  $\delta$ . Предел прочности металла при срезе:  $[\tau] = 360$  МПа.



$\delta$	$a$
35 Н/мм <sup>2</sup>	15 мм

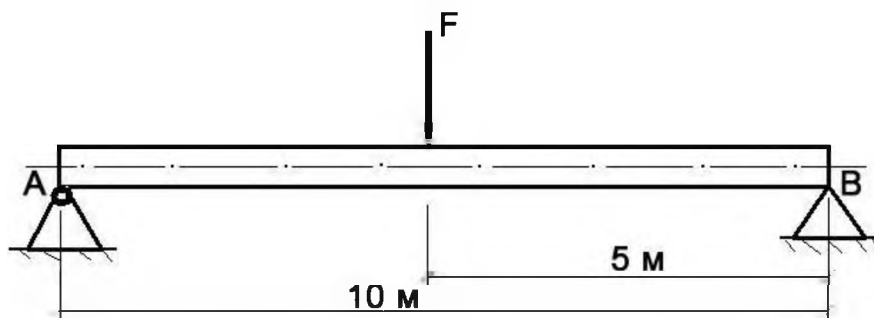
## Билет № 21

### Теоретический вопрос:

Что такое «модуль продольной упругости  $E$ » и в каких единицах он измеряется?

### Задача:

Построить эпюру изгибающих моментов и выполнить расчет бруса на прочность, при условии, что предельно допустимое нормальное напряжение при изгибе:  $[\sigma] \leq 100$  МПа. Брус невесомый.



$F$	Диаметр бруса $d$
150 Н	0,1 м

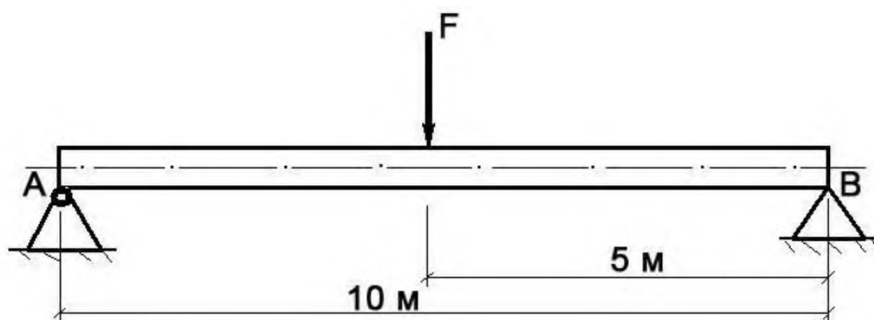
## Билет № 22

### Теоретический вопрос:

Сформулируйте закон Гука при кручении. Запишите его математически в виде формулы.

### Задача:

Построить эпюру изгибающих моментов и выполнить расчет бруса на прочность, при условии, что предельно допустимое нормальное напряжение при изгибе:  $[\sigma] \leq 100$  МПа. Брус невесомый.



$F$	Диаметр бруса $d$
-----	-------------------

3000 Н	0,15 м
--------	--------

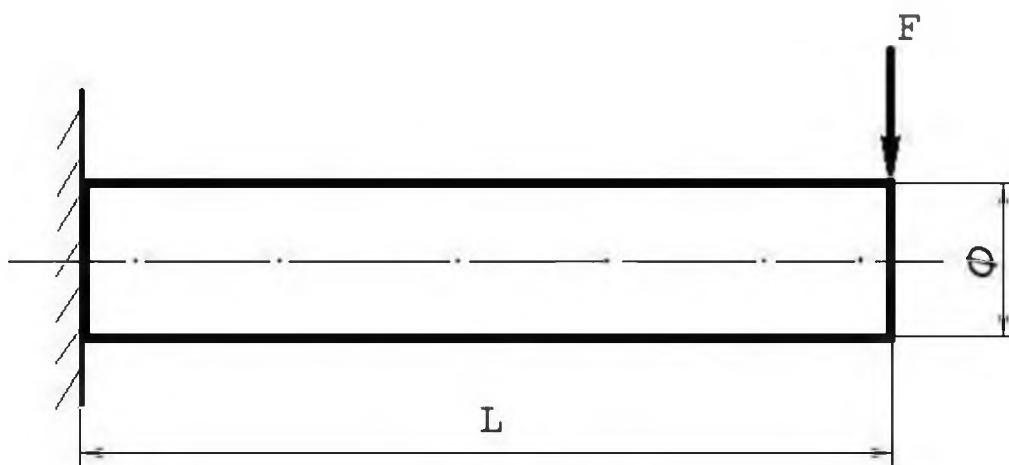
### Билет № 23

#### Теоретический вопрос:

Перечислите основные виды деформаций, и какими внешними нагрузками они вызываются.

#### Задача:

Построить эпюру изгибающих моментов и выполнить расчет бруса на прочность, при условии, что предельно допустимое нормальное напряжение при изгибе:  $[\sigma] \leq 100$  МПа. Брус невесомый.



$F$	$L$	$\Phi$ (диаметр бруса)
580 Н	5 м	10 см

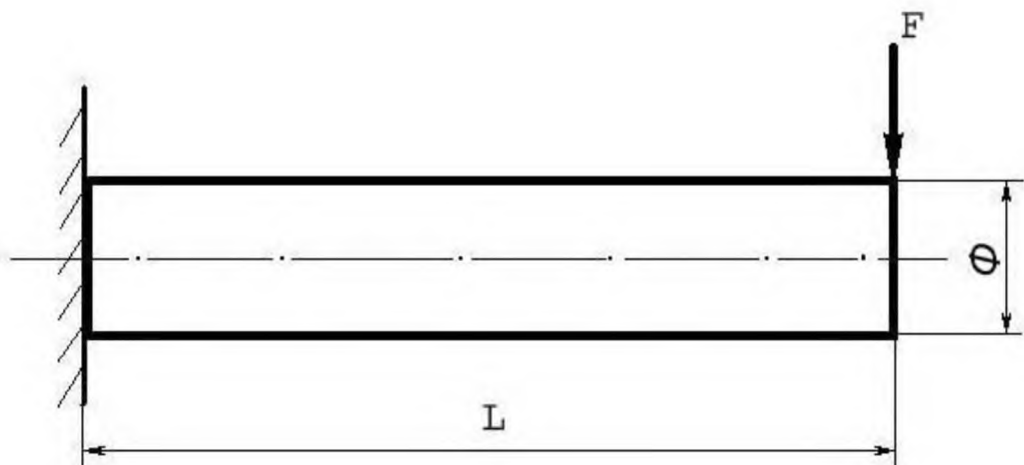
### Билет № 24

#### Теоретический вопрос:

Сформулируйте гипотезу плоских сечений Бернулли.

#### Задача:

Построить эпюру изгибающих моментов и выполнить расчет бруса на прочность, при условии, что предельно допустимое нормальное напряжение при изгибе:  $[\sigma] \leq 100$  МПа. Брус невесомый.



$F$	$L$	$\Phi$ (диаметр бруса)
180 Н	15 м	10 см

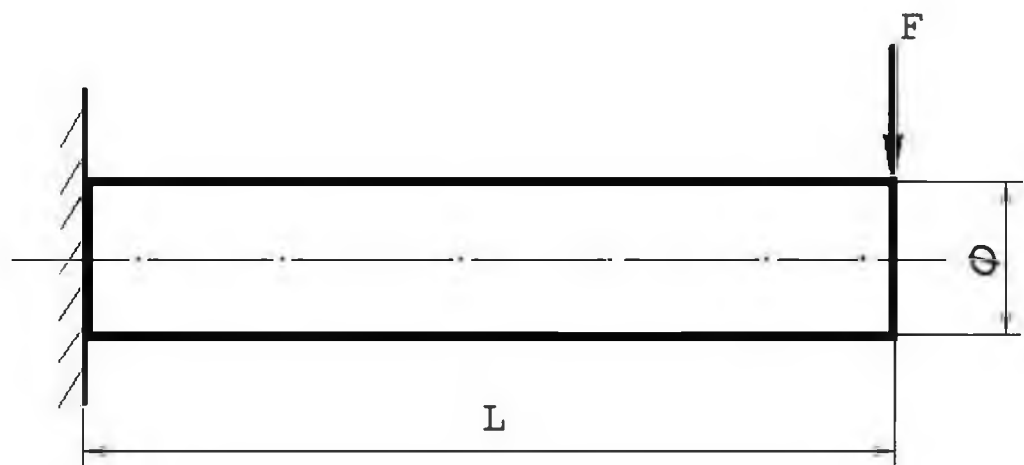
### Билет № 25

#### Теоретический вопрос:

В чем заключается метод сечений, применяемый при расчетах в сопротивлении материалов?

#### Задача:

Построить эпюру изгибающих моментов и выполнить расчет бруса на прочность, при условии, что предельно допустимое нормальное напряжение при изгибе:  $[\sigma] \leq 100$  МПа. Брус невесомый.



$F$	$L$	$\Phi$ (диаметр бруса)
5000 Н	5 м	10 см

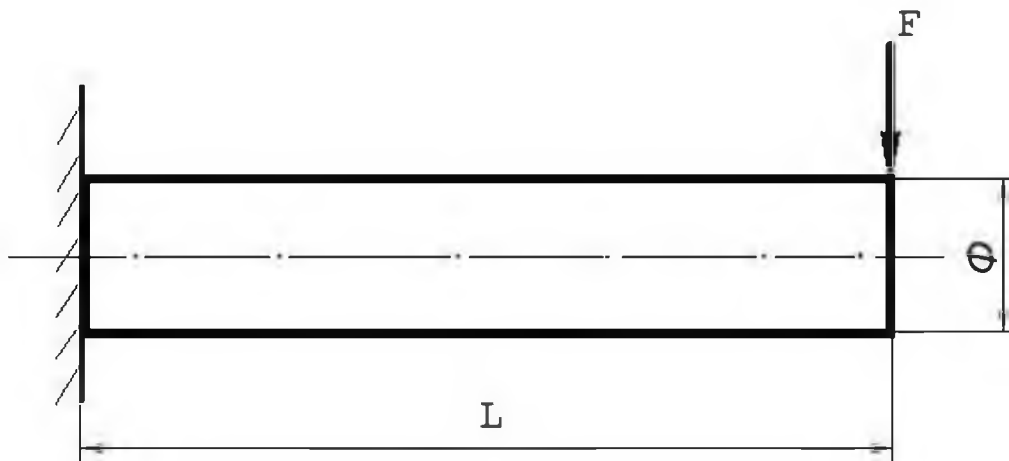
## Билет № 26

### Теоретический вопрос:

Сформулируйте закон Гука при растяжении и сжатии. Приведите формулу.

### Задача:

Построить эпюру изгибающих моментов и выполнить расчет бруса на прочность, при условии, что предельно допустимое нормальное напряжение при изгибе:  $[\sigma] \leq 100$  МПа. Брус невесомый.



$F$	$L$	$\Phi$ (диаметр бруса)
250 Н	12 м	8 см

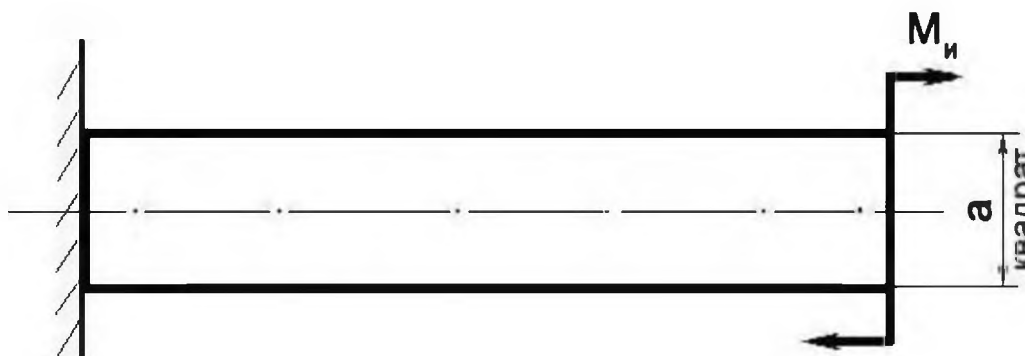
## Билет № 27

### Теоретический вопрос:

Что такое осевой момент инерции плоской фигуры (плоского сечения)?

### Задача:

Построить эпюру изгибающих моментов и выполнить расчет бруса на прочность, при условии, что предельно допустимое нормальное напряжение при изгибе:  $[\sigma] \leq 100$  МПа.



$M_n$	$a$
100 Н/м	0,1 м

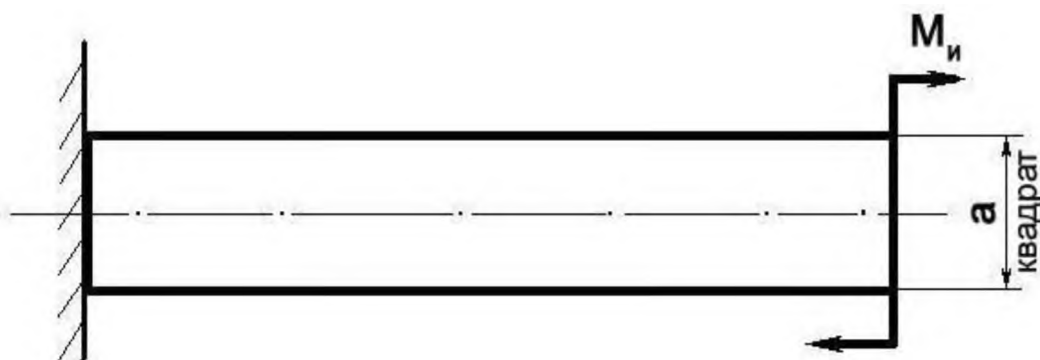
## Билет № 28

### Теоретический вопрос:

Что такое полярный момент инерции плоского сечения?

### Задача:

Построить эпюру изгибающих моментов и выполнить расчет бруса на прочность, при условии, что предельно допустимое нормальное напряжение при изгибе:  $[\sigma] \leq 100$  МПа.



$M_y$	$a$
300 Н/м	5 см

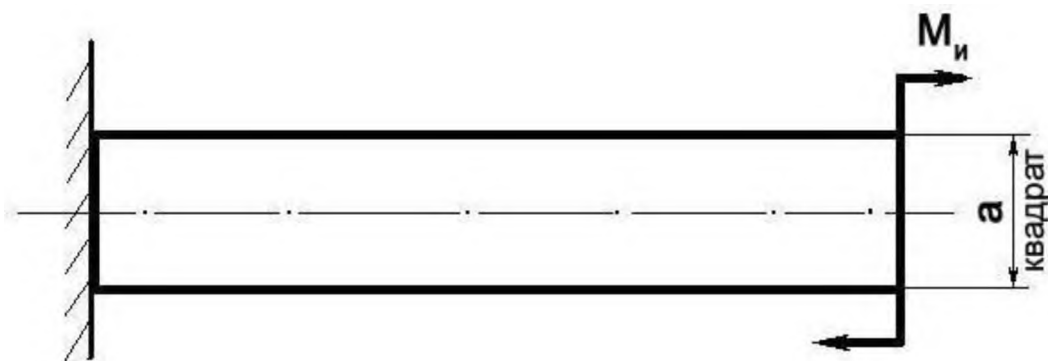
## Билет № 29

### Теоретический вопрос:

Перечислите геометрические характеристики плоских сечений и поясните их суть.

### Задача:

Построить эпюру изгибающих моментов и выполнить расчет бруса на прочность, при условии, что предельно допустимое нормальное напряжение при изгибе:  $[\sigma] \leq 100$  МПа.



$M_u$	$a$
450 Н/м	10 см

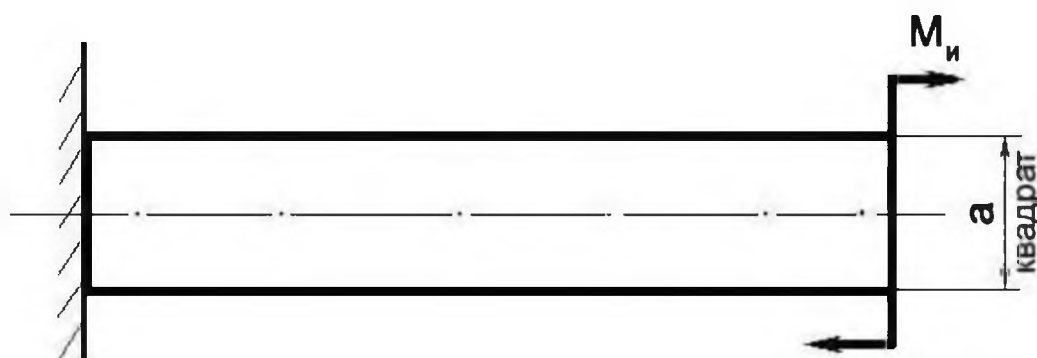
### Билет № 30

#### Теоретический вопрос:

Какие внутренние силовые факторы возникают в брус при растяжении и сжатии?

#### Задача:

Построить эпюру изгибающих моментов и выполнить расчет бруса на прочность, при условии, что предельно допустимое нормальное напряжение при изгибе:  $[\sigma] \leq 100$  МПа.



$M_u$	$a$
1000 Н/м	15 см



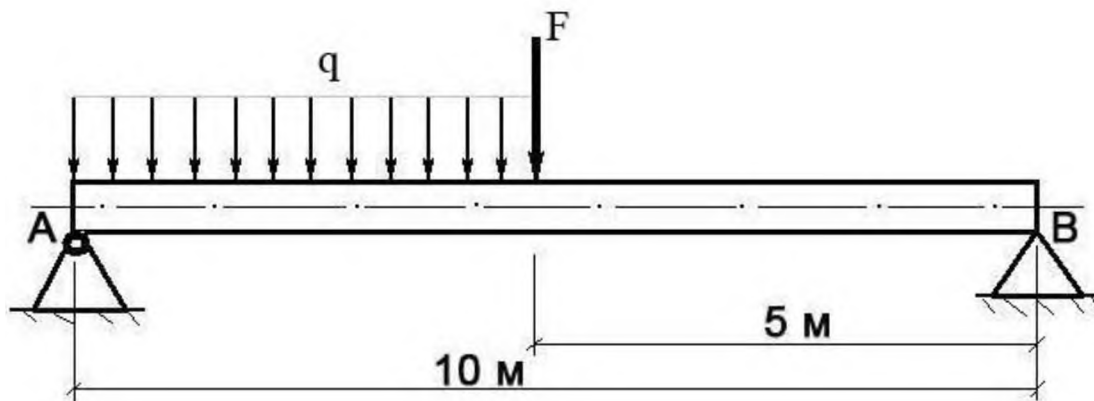
### Билет № 31

#### Теоретический вопрос:

Какие внутренние силовые факторы возникают в брус при поперечном изгибе?

#### Задача:

Построить эпюру изгибающих моментов и выполнить расчет круглого бруса на прочность, при условии, что предельно допустимое нормальное напряжение при изгибе:  $[\sigma] \leq 100 \text{ МПа}$ .



F	q	Диаметр d
100 Н	20 Н/м	10 см

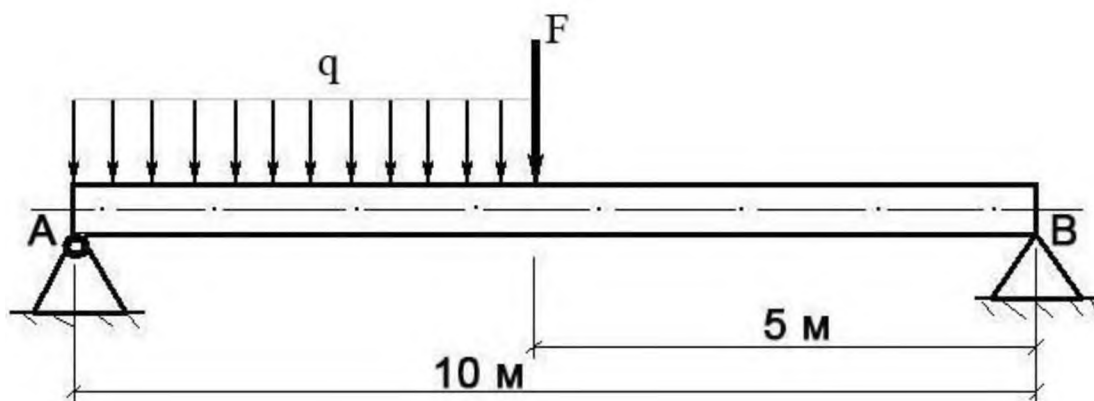
### Билет № 32

#### Теоретический вопрос:

Что такое «контактные напряжения» и когда они возникают. Приведите примеры.

#### Задача:

Построить эпюру изгибающих моментов и выполнить расчет круглого бруса на прочность, при условии, что предельно допустимое нормальное напряжение при изгибе:  $[\sigma] \leq 100 \text{ МПа}$ .



F	q	Диаметр d
250 Н	120 Н/м	0,1 м

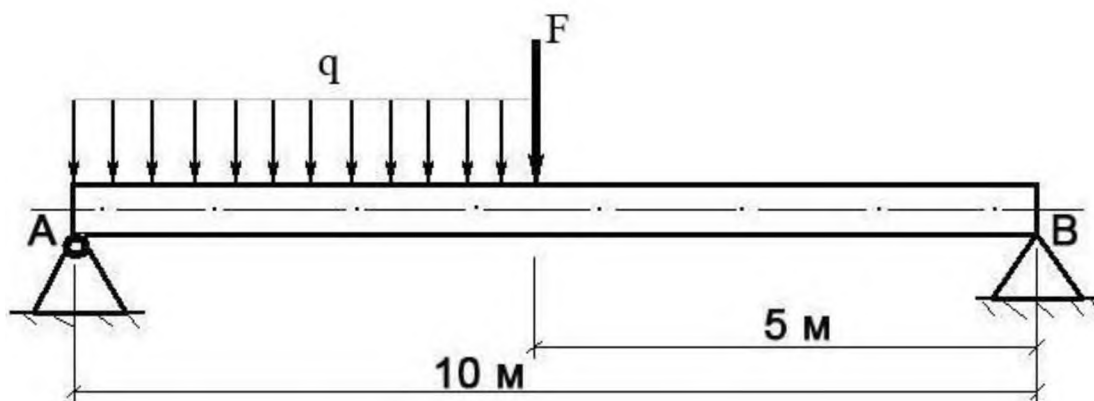
### Билет № 33

#### Теоретический вопрос:

Приведите расчетную формулу условия прочности детали при сдвиге. Поясните ее суть.

#### Задача:

Построить эпюру изгибающих моментов и выполнить расчет круглого бруса на прочность, при условии, что предельно допустимое нормальное напряжение при изгибе:  $[\sigma] \leq 100 \text{ МПа}$ .



F	q	Диаметр d
400 Н	20 Н/м	0,1 м

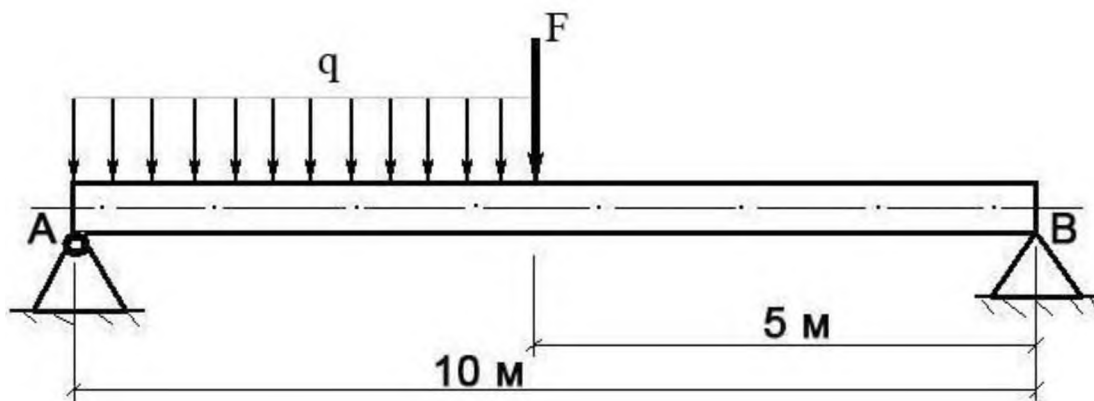
### Билет № 34

#### Теоретический вопрос:

В чем заключается условие прочности бруса при кручении?

#### Задача:

Построить эпюру изгибающих моментов и выполнить расчет круглого бруса на прочность, при условии, что предельно допустимое нормальное напряжение при изгибе:  $[\sigma] \leq 100 \text{ МПа}$ .



F	q	Диаметр d
---	---	-----------

250 Н	40 Н/м	0,1 м
-------	--------	-------

### Экзаменационные вопросы

1. Статика. Аксиома статики.
2. Связи. Типы связей.
3. Система сходящихся сил. Разложение сил.
4. Сложение сил.
5. Пара сил. Момент пары. Сложение пар.
6. Пространственная система сил. Параллелепипед сил.
7. Момент силы относительно оси. Равновесие пространственной системы сил.
8. Центр тяжести параллельных сил.
9. Центр тяжести тела, центр тяжести простейших фигур.
10. Кинематика. Движение точки.
11. Скорость точки. Ускорение точки.
12. Поступательное и вращательное движение твердого тела.
13. Линейные скорости и ускорение.
14. Динамика. Законы динамики.
15. Силы инерции. Уравновешивающий механизм.
16. Работа постоянной силы на прямолинейном участке пути.
17. Мощность.
18. Работа переменной силы на криволинейном участке пути. Сила тяжести.
19. Импульс силы. Количество движения.
20. Сопротивление материалов. Классификация нагрузок.
21. Напряжение. Метод сечений.
22. Растяжение и сжатие. Напряжение и деформация.
23. Закон Гука при растяжении и сжатии.
24. Продольные силы. Их эпюры.
25. Диаграмма растяжения низкоуглеродистой стали.
26. Смятие.
27. Срез. Сдвиг.
28. Закон Гука при сдвиге.
29. Кручение.
30. Изгиб.

31. Конические зубчатые передачи. Схема, геометрические параметры, область применения, сила, действующая в зубьях.
32. Виды подшипников скольжения и качения. Маркировка, монтаж на вал, способ смазки.
33. Расчет вала прямозубой передачи. Крутящие и изгибающие моменты и их эпюры.
34. Достоинство и недостатки подшипников скольжения. Расчет на износостойкость и нагрев.
35. Последовательность расчета конической зубчатой передачи. Область применения. Преимущества и недостатки.
36. Виды валов. Область применения, конструкция. Подбор диаметра вала.
37. Расчет вала косозубого цилиндрического редуктора на прочность и жесткость. Область применения валов, конструкция.
38. Виды подшипников качения в зависимости от нагрузки. Расчет на статическую грузоподъемность. Область применения, конструкция. Серии подшипников.
39. Классификация подшипников качения. Область их применения, материалы и методы изготовления.
40. Последовательность расчета цилиндрической передачи. Область применения передач. Преимущества и недостатки.
41. Подшипники качения. Достоинства и недостатки. Область применения.
42. Расчет ременной передачи. Типы ремней по ГОСТу. Область применения. Преимущества и недостатки.
43. Долговечность плоских и клиновидных ремней. Сшивка ремней. Область применения.
44. Тепловой расчет червячного редуктора. Способы уменьшения нагрева масла в редукторе.
45. Косозубые шевронные передачи. Сила действующая в зацеплении. Область применения.
46. Передача винт-гайка. Область применения, материалы и метод изготовления.
47. Прямозубая передача. Назначение, основные геометрические соотношения, область применения.
48. Расчет прямозубых цилиндрических колес на контактную прочность и изгиб, параметры, входящие в формулу. Область применения.
49. Резьбовые соединения, типы резьбы. Область применения, достоинства и недостатки.
50. Последовательность расчета конических зубчатых колес. Область применения.
51. Назначение, конструкция осей. Вращающиеся, невращающиеся оси.
52. Цепные передачи. Силы, действующие в зацеплении, шаг цепей по ГОСТу.

53. Ременная передача, силы напряжения в ремнях. Область применения.
54. Цепная передача. Достоинства и недостатки. Геометрические соотношения, маркировки цепей.
55. Последовательность расчета цепной передачи. Область применения.
56. Последовательность расчета цепной передачи. Преимущества и недостатки.
57. Расчет осей на прочность и жесткость. Конструкция осей, материалы.
58. Усталостное разрушение. Требования, предъявляемые к конструкции деталей машин.
59. Червячная передача. Последовательность расчета. Область применения. Преимущества и недостатки.
60. Шпоночные соединения. Достоинства и недостатки. Расчет и подбор шпонок.
61. Шлицевые соединения. Типы шлиц и расчет шлицевых соединений.

### Экзаменационные задачи

1. Определить реакции опор балки. Дано:  $F_1 = 10 \text{ кН}$ ,  $F_2 = 20 \text{ кН}$  (схема).
2. Определить реакции опор балки. Дано:  $F_1 = 10 \text{ кН}$ ,  $T = 40 \text{ кН}$ ,  $q = 0,8 \text{ кН/м}$  (схема).
3. Фонарь весом  $9 \text{ кН}$  подвешен на кронштейне ABC. Определить реакции горизонтального стержня AB и тяги BC, если  $AB = 1,2 \text{ м}$  и  $BC = 1,5 \text{ м}$  (схема).
4. Кран удерживает груз  $G = 10 \text{ кН}$ . Найти  $N_1$  и  $N_2$  в стержнях BC и AB. Если  $AB = 3,8 \text{ м}$ ,  $BC = 2,6 \text{ м}$ ,  $AC = 2 \text{ м}$  (схема).
5. Два человека тянут за веревки, привязанные к кольцу в т. А направленные под прямым углом, один с силой  $F_1 = 120 \text{ кН}$ , другой  $F_2 = 90 \text{ кН}$ . С какой силой должен тянуть третий человек, чтобы кольцо осталось неподвижным.
6. На концы консолей балки действуют две равные параллельные силы  $F = F_1 = 30 \text{ кН}$ . Определить реакции опор  $b = 6 \text{ м}$ ,  $a = 2 \text{ м}$  (схема).
7. К вершине треножника ABCD в т. В подвешен груз  $P = 10 \text{ т}$ . Ножки имеют равную длину и образуют равные углы с вертикалью  $30^\circ$ . Определить силы, действующие в ножках треножника.
8. На станке обрабатывается вал. В направлении продольной подачи резец испытывает сопротивление (осевое давление)  $P_y = 100 \text{ кг}$ , в направлении поперечной подачи (радиальное давление)  $P_x = 220 \text{ кг}$  и в вертикальном направлении - сопротивление  $P_z = 500 \text{ кг}$ . Определить полное давление на резец.
9. Однородная консольная горизонтальная балка весом  $P = 150 \text{ кг}$  и длиной  $6 \text{ м}$  опирается на две вертикальные стены. Расстояние  $AB = 4 \text{ м}$ . Определить давление на каждую из стен.
10. Найти центр тяжести сложной фигуры (схема фигуры).

11. Определить глубину шахты, если брошенный в нее камень достигнет дна, через 6 сек. С какой скоростью падает камень?
12. Точка движения прямолинейно по закону  $S = 4t + 2t^2$ . Найти ее среднее ускорение в промежутке между моментами  $t_1 = 5$  с,  $t_2 = 7$  с, а так же ее истинное ускорение в момент  $t_3 = 6$  с.
13. Требуется обработать на токарном станке поверхность шкива радиусом  $R = 175$  мм с частотой 20 об/мин. Определить скорость резания.
14. Тепловоз проводит закругление, длиной 800 м за 50 сек. Радиус закругления по всей его длине постоянный и равен 400 м. определить скорость тепловоза и нормальное ускорение, считая его движение равномерным.
15. Материальная точка весом 240 кг, двигаясь равноускоренно, прошла путь,  $S = 1452$  м за 22 сек. Определить силу, вызвавшую это движение.
16. В поднимающейся кабине лифта производится взвешивание тела на пружинных весах (сила тяжести тела  $G = 50$  Н), натяжение пружин весов (т.е. вес тела) = 51 Н. Найти ускорение кабины.
17. Какую работу производить человек, передвигая по горизонтальному полу на расстояние 4 м горизонтально направленным усилием ящик массой 50 кг? Коэффициент трения  $f = 0,4$ .
18. Для использования работы водопада поставлена турбина, к.п.д. которой  $\eta = 0,8$ . Определить в Л.С. полезную мощность турбины, если водопад в течение одной минуты дает  $600 \text{ м}^3$  воды, падающей с высоты 6 м.
19. Однородный массив ABCD массой  $m = 4080$  кг. Определить работу, необходимую для опрокидывания массива вокруг ребра D.
20. Тело массой  $m = 20$  кг двигалось поступательно со скоростью  $V_0 = 0,5$  м/с. Определить модуль и направление  $V_1$  тела через 3 сек. после приложения к телу постоянной силы  $F = 40$  кН, направленной в сторону противоположную его начальной  $V_0$ .
21. К двум стержням разного поперечного сечения приложены одинаковые силы. В каком продольные силы больше?
22. В стержне просверлено отверстие. Как это сказалось на величине продольной силы в ослабленном сечении?
23. К каждому из трех вертикальных стержней одинаковой площади поперечного сечения, но разной длины и разных материалов подвешены грузы. Будут ли одинаковы напряжения в стержнях?
24. На стальной ступенчатый брус ( $E = 2 \times 10^{11}$  Па) действуют силы  $P = 20$  кН и  $T = 30$  кН.  $F_1 = 400 \text{ мм}^2$ ,  $F_2 = 800 \text{ мм}^2$ ,  $a = 0,2$ . Определить изменение длины  $\Delta_1$  бруса.
25. На стальной брус ( $E = 2 \times 10^{11}$  Па) действуют силы  $P = 20$  кН и  $T = 30$  кН. Площади  $F_1 = 400 \text{ мм}^2$ ,  $F_2 = 800 \text{ мм}^2$ ,  $a = 0,2$ , построить эпюры  $N$  и  $\sigma$ . Определить  $\Delta_1$ .

26. К двум вертикальным, стальным стержням одинаковой площади поперечного сечения, но разной длины подвешена горизонтальная балка. Сохранится ли горизонтальность балки, если к ее середине подвесить груз.
27. Тяга, соединенная с вилкой посредством болта, нагружена силами. Определить напряжение смятия в головке тяги, если  $P = 32 \text{ кН}$ , диаметр болта  $= 20 \text{ мм}$ ,  $S = 24 \text{ мм}$ .
28. Тяга, соединенная с вилкой посредством болта, нагружена силами. Определить напряжение среза в болте, если  $P = 32 \text{ кН}$ , диаметр болта  $= 20 \text{ мм}$ ,  $S = 24 \text{ мм}$ .
29. Определить модуль упругости  $\Pi$  рода для сталей, используя зависимость между тремя упругими постоянными. Материал сталь.
30. Стальной вал вращается с частотой  $n = 980 \text{ мин}^{-1}$  и передает  $N = 40 \text{ кВт}$ . Определить диаметр вала, если  $[\tau_k] = 25 \text{ МПа}$ .
31. Для какой из балок требуется более прочное поперечное сечение (схема). Почему?
32. Определить передаточное отношение многоступенчатого редуктора, если известно  $U_{12} = 3,145$ ;  $U_{34} = 2$ ;  $U_{56} = 5$ .
33. Определить диаметр винта передачи «Винт-Гайка»  $d_e = ?$ , если  $F_a = 4 \text{ кН}$ ,  $\Psi_H = 1,8$ ,  $\Psi_h = 0,75$ ,  $[\sigma_{cm}] = 6 \text{ НПа}$ .
34. Определить число зубьев на ведущем колесе  $z_1 = ?$ , если  $d_1 = 32 \text{ мм}$ ,  $a_w = 40$ .
35. Определить высоту гайки передачи «Винт-Гайка»  $H = ?$ , если  $\Psi_H = 1,8$ ,  $d_1 = 45$ ,  $h = 3$ .
36. Определить окружную силу, действующую в зацеплении конической передачи  $F_t = ?$ , если  $N_1 = 2,2 \text{ кВт}$ ,  $n_1 = 2000 \text{ мин}^{-1}$ ,  $z_1 = ?$ ,  $a_w = 80$ ,  $z_1 = 21 \text{ мм}$ .
37. Провести расчет (тепловой) червячной передачи, если известно что  $N = 5 \text{ кВт}$ ,  $\eta = 0,76$ ,  $k_1 = 16$ ,  $S = 0,8 \text{ м}^2$ ,  $[T] = 333 \text{ К}$ .
38. Провести расчет червячной передачи на изгиб, если дано:  $F_t = 4,7 \text{ кН} \cdot \text{м}$ ,  $Y_F = 3,6$ ,  $K_F = 1,14$ ,  $b = 25 \text{ мм}$ ,  $m = 2 \text{ мм}$ .
39. Провести расчет конической передачи на изгиб, если известно:  $F_t = 2 \text{ кН} \cdot \text{м}$ ,  $K_F = 2$ ,  $Y_F = 4,2$ ,  $b_2 = 20 \text{ мм}$ ,  $m = 2 \text{ мм}$ ,  $[\sigma_F] = 200 \text{ МПа}$ .
40. Провести расчет конической передачи на контактную прочность, если известно:  $D_2 = 200 \text{ мм}$ ,  $\Psi = 0,25$ ,  $T_2 = 1,5 \text{ кН}$ ,  $k_H = 1,1$ ,  $U_{12} = 2$ ,  $[\sigma] = 350 \text{ МПа}$ .
41. Провести расчет косозубой передачи на изгиб зубьев, если известно:  $F_t = 1,7 \text{ кН}$ ,  $Y_F = 3,6$ ,  $K_F = 1,7$ ,  $b_{\omega 2} = 80 \text{ мм}$ ,  $m = 2 \text{ мм}$ .
42. Провести расчет косозубой передачи на контактную прочность, если известно:  $a_{\omega} = 189 \text{ мм}$ ,  $K_H = 1,1$ ,  $U_{12} = 3,14$ ,  $T_2 = 15,0 \text{ кН} \cdot \text{м}$ ,  $d_1 = 60 \text{ мм}$ .
43. Провести расчет прямозубой передачи на изгиб, если известно:  $[\sigma_k] = 30 \text{ МПа}$ ,  $Z_2 = 90$ ,  $F_{t2} = 6,63 \text{ кН}$ ,  $a_{\omega} = 200 \text{ мм}$ ,  $m = 2 \text{ мм}$ .
44. Провести расчет прямозубой передачи на контактную прочность, если известно:  $\Psi = 0,3$ ,  $a_{\omega} = 250 \text{ мм}$ ,  $U_{12} = 3,14$ ,  $T_2 = 400 \text{ Н} \cdot \text{м}$ ,  $K_H = 1$ ,  $[\sigma] = 400 \text{ МПа}$ .

45. Определить крутящий момент на ведущем валу, если известно, что  $N_1 = 15$  кВт,  $n_2 = 600$  мин,  $U_{12} = 3,14$ .
46. Определить силы, действующие в зацеплении червячной передачи, если известно, что  $T_1 = 20$  кН·м,  $d_1 = 50$  мм,  $\alpha = 20$ ,  $T_2 = 40$  кН·м,  $d_2 = 100$  мм.
47. Определить силы, действующие в зацеплении конической передачи, если известно, что  $d_1 = 30$  мм,  $T_1 = 200$  Н·м,  $\alpha_w = 20^\circ$ .
48. Определить крутящий момент на ведущем валу  $T_1 = ?$ , если известно, что  $\eta_{1,2} = 0,97$ ,  $U_{12} = 1,25$ ,  $N_1 = 2$  кВт.
49. Определить силы, действующие в зацеплении, если известно, что передача прямозубая  $T_1 = 477,67$  Н·м,  $d_1 = 130$  мм,  $\alpha_w = 20^\circ$ .
50. Определить крутящий момент на ведомом валу прямозубого одноступенчатого редуктора, если известно что  $n_1 = 600$  мин<sup>-1</sup>,  $n_2 = 900$  мин<sup>-1</sup>,  $N = 20$  кВт,  $\eta = 0,96$ .
51. Определить число зубьев на ведомом валу косозубого цилиндрического редуктора  $Z_2 = ?$ , если:  $n_1 = 2500$  мин<sup>-1</sup>,  $n_2 = 2000$  мин<sup>-1</sup>,  $\beta = 12$  град.,  $a_w = 80$  мм.
52. Определить частоту вращения ведомого вала  $n_2 = ?$ , если  $N_1 = 3$  кВт,  $T_1 = 140$  Н·м,  $\eta_{1,2} = 0,98$ ,  $T_2 = 170$  Н·м.
53. Определить межосевое расстояние цепной передачи  $a = ?$ , если  $K_t = 2,8$ ,  $V = 1, [p_o] = 15$  мПа,  $Z_1 = 16$ ,  $N_1 = 100$  кВт,  $n_1 = 1200$  мин<sup>-1</sup>.
54. Определить линейную скорость ременной передачи  $V = ?$ , если  $\varepsilon = 0,01$ ,  $n_1 = 1000$  мин<sup>-1</sup>,  $n_2 = 446$  мин<sup>-1</sup>,  $N_1 = 5$  кВт.
55. Определить диаметр шкива ведомого вала  $d = ?$ , если  $\varepsilon = 0,01$ ,  $n_1 = 1000$  мин<sup>-1</sup>,  $n_2 = 446$  мин<sup>-1</sup>,  $N_1 = 5$  кВт.
56. Определить передаточное отношение и делительный диаметр шестерни, если:  $n_1 = 400$  мин<sup>-1</sup>,  $n_2 = 160$  мин<sup>-1</sup>,  $m = 2$ ,  $Z_1 = 36$ .
57. Определить КПД трехступенчатого редуктора, если известно что  $\eta_1 = 0,96$ ,  $\eta_2 = 0,99$ ,  $\eta_3 = 0,97$ .
58. Определить передаточное отношение редуктора, если известно что  $Z_1 = 6$ ,  $Z_2 = 12$ ,  $Z_3 = 20$ ,  $Z_4 = 30$ .
59. Определить крутящий момент на ведущем и ведомом валах редуктора, если известно, что  $N_1 = 5$  кВт,  $U_{12} = 3,14$ ,  $\eta_{12} = 0,96$ ,  $n_1 = 500$  мин<sup>-1</sup>.
60. Определить окружную силу, действующую в зацеплении прямозубой передачи, если известно  $N = 3$  кВт,  $n_1 = 500$  мин<sup>-1</sup>,  $d_1 = 30$  мм.
61. Определить межосевое расстояние косозубой передачи, если известно что  $K_a = 4950$ ,  $U_{12} = 3,14$ ,  $T_1 = 300$  Н·м,  $K_{H\beta} = 1,17$ ,  $\Psi = 0,4$ ,  $[\sigma] = 300$  мПа.
62. Определить делительный, внешний и внутренний диаметры шестерни одноступенчатой прямозубой передачи, если известно, что  $m = 2$  мм,  $Z_1 = 30$ .



## Критерии оценивания по результатам текущего, рубежного и итогового контроля

### Пояснительная записка

1. Текущий контроль проводится ежеурочно в форме: устного ответа, оценки выполнения практической работы, докладов, сообщений, тестовых заданий.
2. Рубежный контроль проводится в форме контрольной работы по изученной теме. Контрольная работа включает теоретический вопрос (или тестовый вопрос) и решение задачи по контролируемой теме.
3. Итоговый контроль (аттестация) обучающихся по дисциплине «Техническая механика» проводится в форме экзамена.  
Экзаменационный билет включает теоретический вопрос и задачу по изученному предмету. К экзамену допускаются обучающиеся, имеющие выполненные, оформленные, проверенные и защищенные на положительную оценку практические работы.

### Критерии оценок.

- ❖ **Оценка «5»** - ответы на вопросы даны в полном объеме, все задачи решены верно.
- ❖ **Оценка «4»** - ответы на вопросы даны в полном объеме, все задачи решены верно, но допущены неточности или несущественные ошибки при оформлении документов.
- ❖ **Оценка «3»** - ответы на вопросы даны, все задачи решены, но допущены существенные ошибки и неточности.
- ❖ **Оценка «2»** - ответы на вопросы не даны, задачи не решены.

При оценивании ответов на тестовые контрольные вопросы учитывается количество правильных и неправильных ответов в соответствии с таблицей

**Таблица**

Процент результативности (правильных ответов)	Оценка уровня подготовки	
	балл (отметка)	вербальный аналог
85 ÷ 100	5	отлично
70 ÷ 85	4	хорошо
50 ÷ 69	3	удовлетворительно
менее 50	2	неудовлетворительно

## **Перечень материалов, оборудования и информационных источников, используемых в аттестации**

- комплект учебно-наглядных пособий по дисциплине «Техническая механика»;
- измерительные инструменты
- дидактический материал по всем видам деформаций;
- методические указания и контрольные задания для индивидуального проектного задания.

### **6. Основная учебная, справочная и методическая литература, используемая при выполнении графических работ**

Перечень рекомендуемых учебных изданий, Интернет-ресурсов, дополнительной литературы:

1. Эрдеди А.А., Эрдеди Н.А. Теоретическая механика. Сопротивление материалов: Учебное пособие для машиностроительных специальностей средних профессиональных учебных заведений. – М.: Высш. шк., 2016.
2. Эрдеди А.А. Детали машин. Учебник для машиностроительных специальностей проф. учеб. заведений. – М.: Высш. шк., 2015.
3. Мовнин М.С., Израэлит А.В., Рубашкин А.Г. Основы технической механики. – Л.: Машиностроение, 2017.
4. Куклин Н.Г., Куклина Г.С. Детали машин. – М., 2017.
5. [http://k-a-t.ru/tex\\_mex/1-vvedenie/index.shtml](http://k-a-t.ru/tex_mex/1-vvedenie/index.shtml)